

1. Türkiye, zengin bitki çeşitliliğine sahip olan dünyanın sayılı ülkelerinden biridir. Ülkemiz, sahip olduğu yaklaşık 12.000 bitki türüyle Avrupa Kıtası'nın tamamında görülen bitki türlerine yakın bir çeşitliliği barındırmaktadır.

Ülkemizin sahip olduğu hangi özellikler, bitki çeşitliliğinin bu kadar fazla olmasında etkili olmuştur?

.....

.....

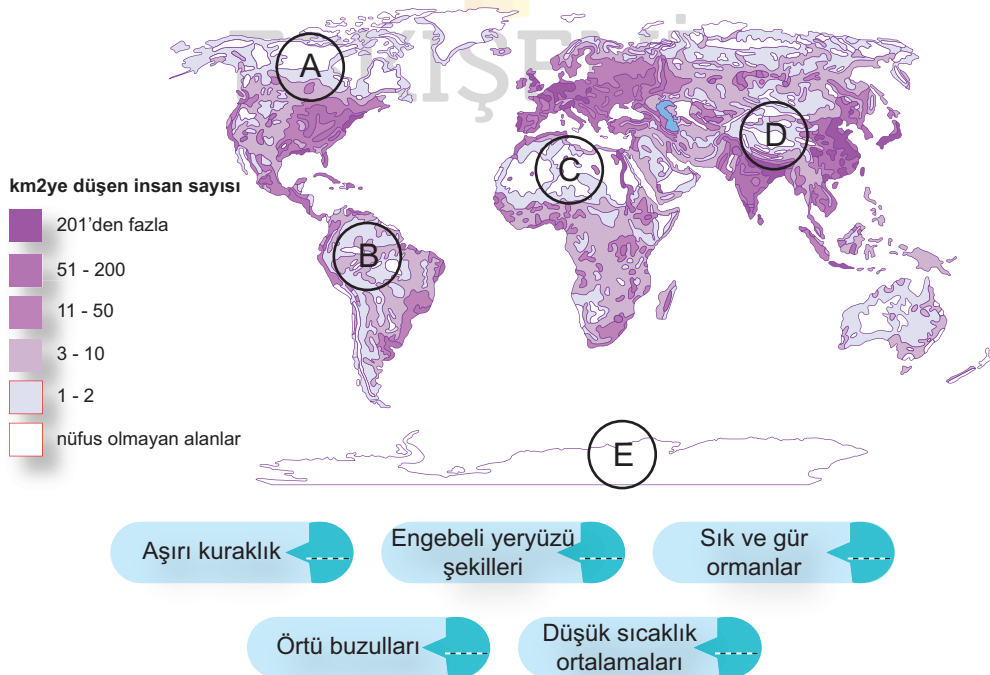
.....

2. Ekonomik faaliyetlerin özellikleri ve sınıflandırılmasıyla ilgili olarak verilen metindeki boş bırakılan yerleri uygun kelimeler ile tamamlayınız.


Yazılım hizmetleri uzmanı olan AAAA, ..... ekonomik faaliyetler sınıfında çalışmaktadır. Çalıştığı şirket ..... 'de faaliyet göstermektedir. Bu ülke gelişmişlik düzeyi ..... olan ülkeler sınıfında kabul edilir. Bu nedenle ülkede kişi başına düşen ..... yüksektir. AAAA yakında şirketinde ..... olacağından beşinci ekonomik faaliyetler sınıfına geçmiş olacaktır.

3. Aşağıdaki nüfus yoğunluğu haritasında, nüfus yoğunluğunun az olduğu bazı alanlar işaretlenmiştir.

Bu alanlarda nüfus yoğunluğunun az olmasının nedenlerini, işaretli alanların harfleri ile eşleştiriniz.



4.



## COĞRAFYA GAZETESİ

"Coğrafya Kaderdir"



### Türkiye'de yaşlı nüfus 5 yılda yüzde 24 arttı

Türkiye İstatistik Kurumu 2021 yılına ilişkin "İstatistiklerle Yaşlılar" çalışmasının sonuçlarını açıkladı. Buna göre, yaşlı nüfusun toplam nüfus içindeki oranı, 2016 yılında yüzde 8,3 iken, 2021 yılında yüzde 9,7'ye yükseldi.

Nüfus projeksiyonlarına göre yaşlı nüfus oranınının 2025 yılında yüzde 11,0, 2030 yılında yüzde 12,9, 2040 yılında yüzde 16,3, 2060 yılında yüzde 22,6 ve 2080 yılında yüzde 25,6 olacağı öngörüldü.

18 Mart 2022 Cuma 10:11 Kaynak: TRT Haber

Gazete haberine göre, Türkiye'de son yıllarda yaşlı nüfus oranlarının artmasının nedenleri neler olabilir?

.....

.....

.....

5.



Yukarıdaki görselde yaşadıkları yerleri terk edip, hayatlarını tehlikeye atarak başka ülkelere ulaşmaya çalışan göçmenler görülmektedir.

Bu insanları göçe zorlayan nedenler neler olabilir? Kategoriyeye göre uygun bir neden yazınız.

Doğal Nedenler

Siyasi Nedenler

Ekonomik Nedenler

Sosyal / Kişisel Nedenler

6. Çin'in Tianjin limanından 15 Ocak tarihinde 2022 hareket eden bir gemi, taşıdığı demir-çelik ürünlerini Hollanda'nın Rotterdam limanına götürecektir.

**Bu geminin izleyeceği en kısa yolu harita üzerine kabaca çiziniz.**



7. Deprem afetinde can ve mal kayıpları miktarı üzerinde etkili olan etmenler nelerdir?

.....

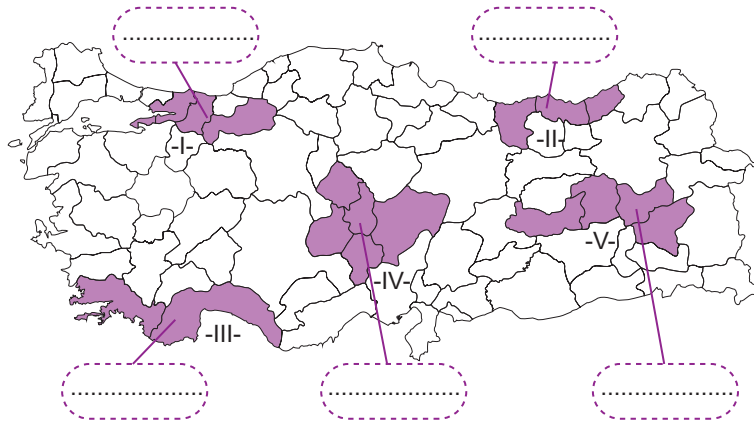
.....

.....

.....

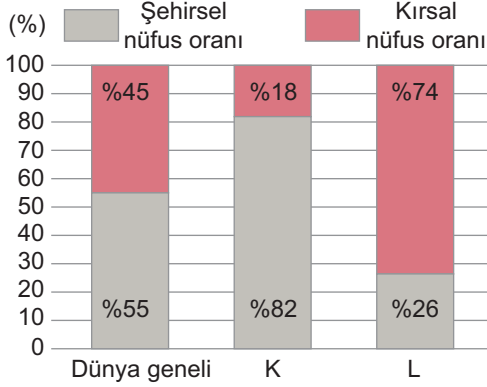
ESKİŞEHİR

8. Aşağıdaki harita üzerinde işaretlenmiş yerlerde en fazla görülen doğal afet türlerini yazınız.



Aşağıdaki çoktan seçmeli soruları cevaplayınız.

9. Aşağıdaki grafikte şehirsel ve kırsal nüfus oranlarının dünya geneli, K ve L ülkelerindeki ortalama durumu gösterilmiştir.

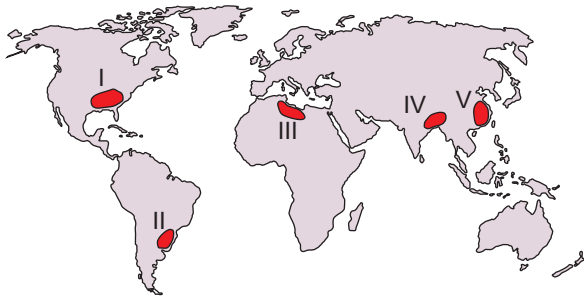


**Yalnızca grafikteki bilgiler dikkate alındığında aşağıdakilerden hangisine ulaşamaz?**

- A) K ülkesinin şehirsel nüfus oranı, dünya geneli şehirsel nüfus oranından yüksektir.  
B) L ülkesinin kırsal nüfus oranı, dünya geneli kırsal nüfus oranından yüksektir.  
C) K ülkesinin kırsal nüfus oranı hem dünya geneli hem de L ülkesinin kırsal nüfus oranından düşüktür.  
D) Dünya geneli şehirsel nüfus oranı, L ülkesinin şehirsel nüfus oranından yüksektir.  
E) Dünya genelinde en az kırsal nüfus oranına sahip ülke K'dir.

2021-TYT

10. Aşağıdaki haritada bazı alanlar numaralandırılarak gösterilmiştir.

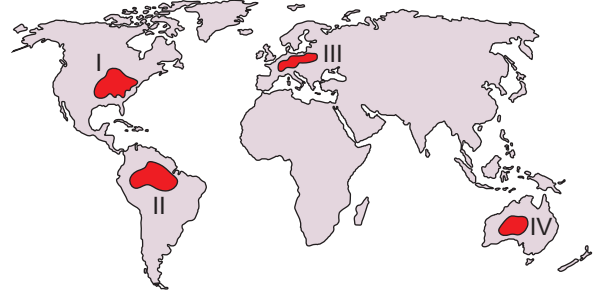


**Bu alanların hangisinde sel ve taşkınların görülme sıklığı daha azdır?**

- A) I B) II C) III D) IV E) V

2020-TYT

- 11.



**Yukarıdaki haritada numaralandırılarak koyu renkle gösterilen alanların hangilerinde demir yolu ağı diğerlerine göre daha seyrektr?**

- A) I ve II B) I ve IV C) II ve III  
D) II ve IV E) III ve IV

2016-YGS

12. Gelişmekte olan bir ülkede, sektörlerin ekonomiye olan katkılarının son on yıla ait dağılımını gösteren bir tablo incelendiğinde tarım sektörünün ekonomideki payının azaldığı, sanayi ve özellikle de hizmet sektörlerinin paylarının arttığı görülmüştür.

**Bu ülkenin sosyal ve ekonomik yapısıyla ilgili olarak aşağıdaki yargılardan hangisine ulaşamaz?**

- A) Enerji tüketimi artmaktadır.  
B) Kentleşme oranı artmaktadır.  
C) Ekonomik bakımdan gelişmektedir.  
D) Tarımsal üretim miktarı azalmaktadır.  
E) Eğitimli nüfus oranı yükselmektedir.

2021-AYT/Sosyal Bilimler-2