

## 1. Aşağıdaki ifadelerde boş bırakılan yerleri verilen kelimelerden uygun olanları ile tamamlayınız.

hizmet - üretim - verimli - pazar - tarımsal - dış ticaret - serbest ticaret - okyanus sularının - maden - iklim

- I. Ticaretin ortaya çıkışı, Neolitik Çağ'da yapılan .....faaliyetler ile Kalkolitik Çağ'da .....lerin işlenmesi sürecine dayanır.
- II. Ülkeler ve bölgeler arasında ticaretin yapılabilmesi için ham madde, .....ve pazar olmak üzere üç unsura ihtiyaç vardır.
- III. Ticarete asıl amaç, üretilen ürünleri satmak ve ihtiyaç duyulan ürünleri satın almaktır. Bu kapsamda ülkeler arasında yapılan ticarete .....adı verilir.
- IV. Dünyada tarımsal ham madde üretiminin yoğun olduğu yerler; .....şartlarının uygun, su kaynaklarının bol ve tarım arazilerinin de .....olduğu alanlar olarak dikkat çekmektedir.
- V. Balıkçılık açısından bakıldığında dünyada en fazla balık avlanan yerlerin sıcak ve soğuk .....karşılaştığı alanlar olduğu söylenebilir.
- VI. Dünya üzerinde sanayi, .....ve enerji alanlarında önemli üretim bölgeleri bulunmaktadır.
- VII. Dünya ticaretinde ham madde ve üretimden sonraki aşama tüketim bölgesi olan .....dır.
- VIII. Yapılan ticari faaliyetler, ülkeler ve bölgeler arasında serbest pazar ortamı oluşmasına; bu durum da yeni pazar arayışları ile .....bölgelerinin ortaya çıkmasına imkân sunmaktadır.

## 2. Turizmin sosyal ve kültürel etkisini kısaca açıklayınız.

.....

.....

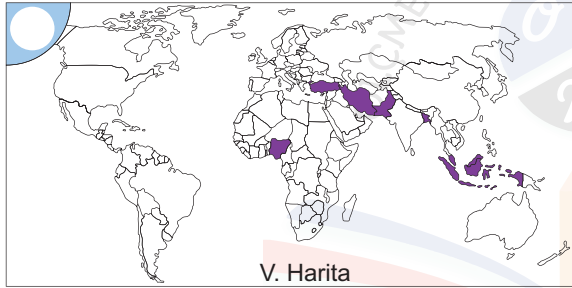
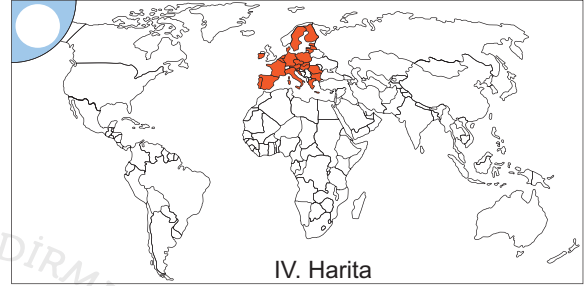
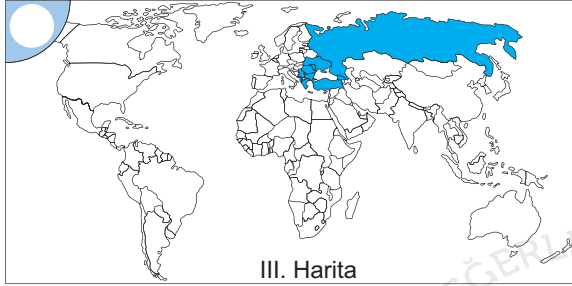
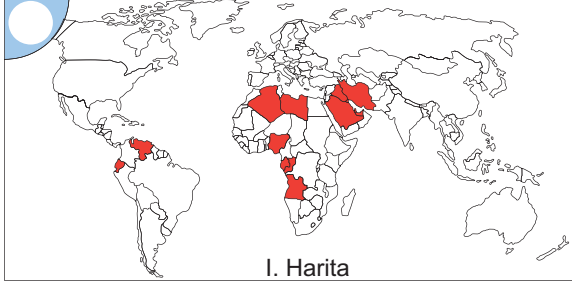
.....

.....

## 3. Tarım ve hayvancılık ile ilgili olarak verilen özelliklerin, Fransa ve Somali ülkelerinden hangisine ait olduğunu, cümlelerin sonundaki noktalı yerlere yazınız.

	Fransa / Somali
Tarım, daha çok temel ihtiyaçların karşılanmasına yönelik olarak ekstansif(geleneksel) yöntemlerle yapılır. Bu nedenle birim alandan elde edilen verim düşüktür.	A <input style="width: 100px; height: 20px; border: 1px solid black; border-radius: 10px;" type="text"/>
Entansif tarım yöntemlerinin uygulandığı ülkede, tarımsal üretimde doğadaki şartların etkisi azdır. Tarımdaki sulama sayesinde üretimde büyük dalgalanmalar görülmez.	B <input style="width: 100px; height: 20px; border: 1px solid black; border-radius: 10px;" type="text"/>
Birleşmiş Milletler Dünya Gıda ve Tarım Örgütü'nün (FAO) verilerine göre ülkede 2016 yılında en fazla yetiştirilen ürünün şeker kamışı olarak tespit edilmiştir.	C <input style="width: 100px; height: 20px; border: 1px solid black; border-radius: 10px;" type="text"/>
Hayvancılık faaliyetleri mera ve çayırlarda geleneksel yöntemlerle yapılmaktadır. Bu da birim hayvandan elde edilen et ve süt veriminin düşmesine neden olur.	D <input style="width: 100px; height: 20px; border: 1px solid black; border-radius: 10px;" type="text"/>
Hayvansal ürünlerden elde edilen verim yüksektir. Irk ıslahı, yemleme, besicilik, aşı ve ilaç programları gibi yöntemler sayesinde elde edilen et ve süt verimi fazladır.	E <input style="width: 100px; height: 20px; border: 1px solid black; border-radius: 10px;" type="text"/>

4. Bazı uluslararası örgütlere üye olan ülkeleri gösteren haritaların, hangi örgüte ait olduğunu, harita üzerine ismin önündeki harfi yazarak belirtiniz.



- A** (OPEC) Petrol İhraç Eden Ülkeler  
**B** (D-8) Gelişen Sekiz Ülke  
**C** (AB) Avrupa Birliği Ülkeleri  
**D** (KEİ) Karadeniz Ekonomik İşbirliği Ülkeleri  
**E** (BDT) Bağımsız Devletler Topluluğu Ülkeleri

5. Petrolün çıkarılmasından kullanımına kadar geçen sürede, çevreye yaptığı olumsuz etkiler nelerdir?

.....

.....

.....

.....

6. Asit yağmurlarının oluşumunda insan faaliyetlerinin etkisini açıklayınız?

.....

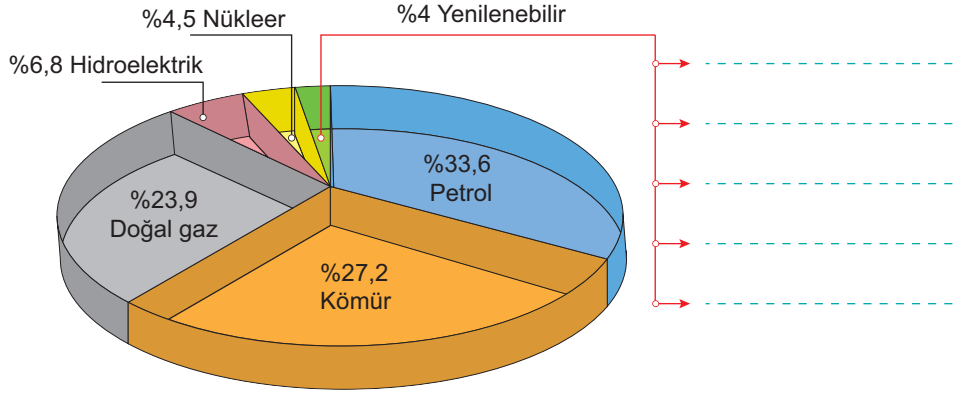
.....

.....

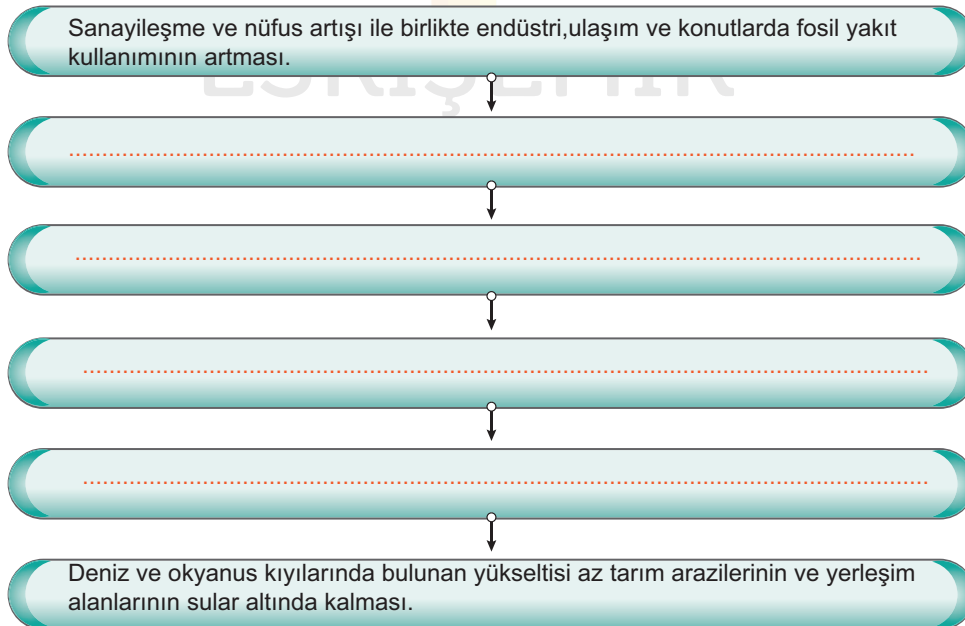
.....

7. Aşağıda grafikte, dünyada enerji üretiminde kullanılan kaynakların oransal dağılışı gösterilmiştir.

**Bu dağılıfta yenilenebilir enerji kaynakları içerisinde hangi kaynaklar kullanılmaktadır? Noktalı olan yerlere yazınız.**



8. Fosil yakıt kullanımından, kıyıların sular altında kalmasına kadar yaşanacak olaylar sıralamasını şema üzerine yazınız.



**Aşağıdaki çoktan seçmeli soruları cevaplayınız.**

9. Sülfür ve azot oksit gibi kimyasal maddelerin atmosferde su buharı ile birleşerek aside dönüşmesi ve bu asidin yağış olarak yeryüzüne inmesi asit yağışları olarak adlandırılmaktadır.

**Bu yağışların etkili olduğu alanlarda;**

I. kimyasal ve biyolojik özelliklerinin bozulması nedeniyle topraktaki verimin düşmesi,

II. akarsu ve göl sularının pH değeri değiştiği için su ekosistemlerinin olumsuz etkilenmesi,

III. akarsu, göl ve yer altı sularına ait rezervlerin önemli oranda azalması

**sorularından hangileri görülebilir?**

- A) Yalnız I                      B) Yalnız II                      C) Yalnız III  
D) I ve II                      E) II ve III

2021-AYT/Türk Dili ve Edebiyatı-Sosyal Bilimler-1

10. Nüfusun fazla, sanayi ve hizmet sektörünün ağırlıkta olduğu kentlerde yaşayanlar; kentin sıkıcı yaşamından kurtulmak, eğlenmek, dinlenmek ve kendilerini geliştirmek amacıyla çeşitli sosyal ve kültürel faaliyetlere katılabilirler.

**Bu faaliyetlere;**

I. boş zamanlarında sanatsal veya sportif etkinliklere katılmaları,

II. zorunlu çalışma zamanlarının dışında daha fazla gelir için ek işler yapmaları,

III. kendini geliştirmek isteyenlerin beceri ve hobi kurslarına devam etmeleri

**durumlarından hangileri örnek gösterilemez?**

- A) Yalnız I                      B) Yalnız II                      C) Yalnız III  
D) I ve II                      E) II ve III

2021-AYT/Sosyal Bilimler-2

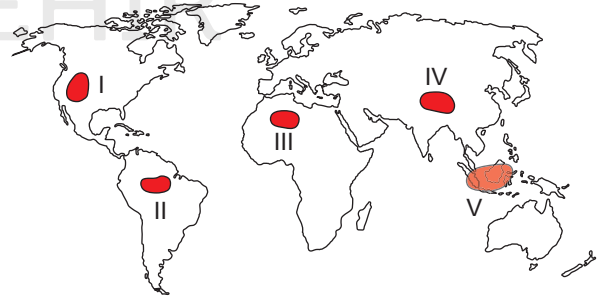
11. Bazı ülkeler; siyasi, askerî ve ekonomik açıdan iş birliği yaparak kimi örgütlerin kurulmasını sağlamışlardır. Bu örgütlerin bir kısmının ortak amacı; üye ülkelerin ticari çıkarlarını korumak, ekonomik, bilimsel ve teknolojik iş birliği yapmaktır.

**Bu amaçlar doğrultusunda 1992 yılında İstanbul'da kurulan örgüt aşağıdakilerden hangisidir?**

- A) İslam İşbirliği Teşkilatı (İİT)  
B) Gelişen Sekiz Ülke (D-8)  
C) Ekonomik İşbirliği ve Kalkınma Örgütü (OECD)  
D) Karadeniz Ekonomik İşbirliği Teşkilatı (KEİ)  
E) Uluslararası Çalışma Örgütü (ILO)

2020-AYT/Türk Dili ve Edebiyatı-Sosyal Bilimler-1

12. Dünya ormanlarındaki aşırı tahribat orman alanlarının daralmasına ve buna bağlı olarak çeşitli çevre sorunlarının ortaya çıkmasına neden olmaktadır.

**Bu durum, haritada numaralandırılan alanların hangilerinde daha fazla görülmektedir?**

- A) I ve II                      B) I ve III                      C) II ve V  
D) III ve IV                      E) IV ve V

2020-AYT/Sosyal Bilimler-2