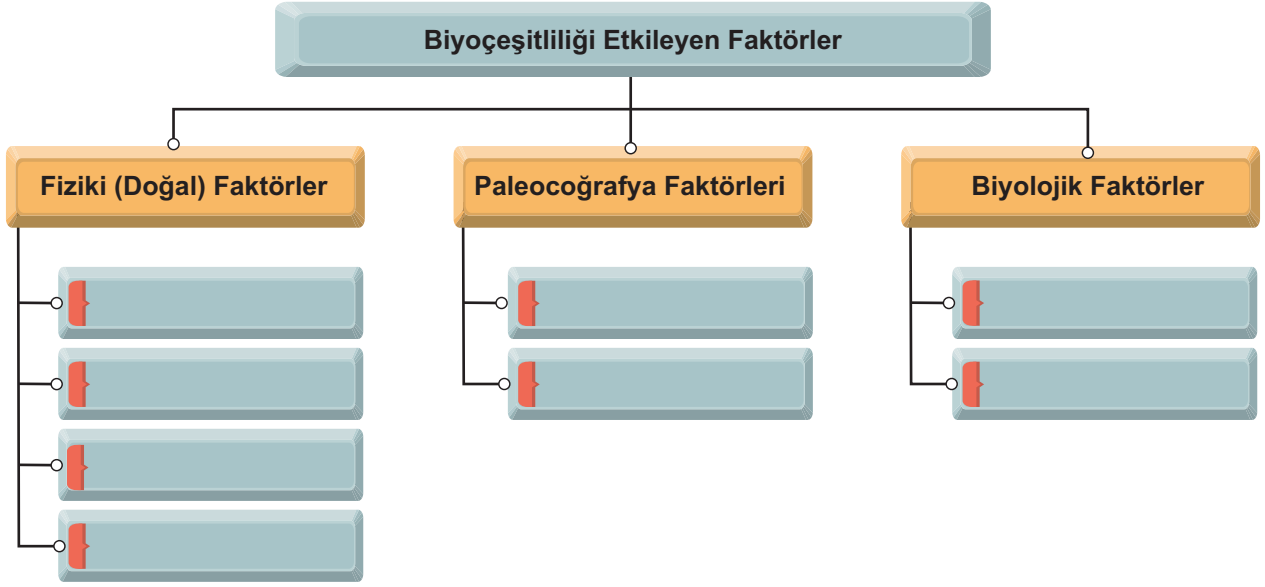


1. Biyoçeşitliliği etkileyen faktörleri aşağıdaki tablo üzerine yazınız.



2. 1869 yılında açılan Süveyş Kanalı'nın Akdenizdeki biyoçeşitlilik üzerinde ne gibi etkileri olmuştur?

.....

.....

.....

.....

3. Aşağıda bazı özellikleri verilmiş olan biyomların isimlerini boş bırakılan alanlara yazınız.

Himalaya, And, Alp, Kayalık vb. dağların yüksek kesimleriyle düşük sıcaklık şartlarının hâkim olduğu alanlarda görülür..

A

.....

Her iki yarım kürede yaklaşık 10-20° enlemleri arasında görülen bu biyomun yaygın hayvan türleri arasında zebra, zürafa, fil, aslan, leopar, çita, timsah, antilop, sırtlan, gergedan, su aygırı, yaban köpeği, çakal, deve kuşu ve yılan bulunur.

B

.....

Seyrek olarak kurakçıl otlar, çalılar ve kaktüslerden oluşan bitki türleri, bünyelerinde su depolayan ve gelişmiş kök sistemine sahip küçük yapraklı veya dikenli bir özelliğe sahiptir.

C

.....

Her mevsimin sıcak ve yağışlı geçtiği, biyoçeşitliliğin fazla olduğu Ekvator ve çevresinde görülür. Orangutan, kaplan, goril, şempanze, jaguar, yılan, leopar, kertenkele, kuş, kelebek ve böcek türleri hayvan türlerinden bazılarıdır.

D

.....

Ilık ve yağışlı geçen kışlarla sıcak ve kurak geçen yazlara uyum sağlamış, boyu 1-3 metre arasında değişen bodur ağaç ve çalılardan oluşur. Çakal, yaban koyunu, yaban keçisi, tavşan, puma, tilki, karaca, kokarca ve kuş türleri hayvan türleridir.

E

.....

4. Çöllerde biyoçeşitliliği sınırlandıran hangi faktörler etkili olmuştur? Kısaca açıklayınız.

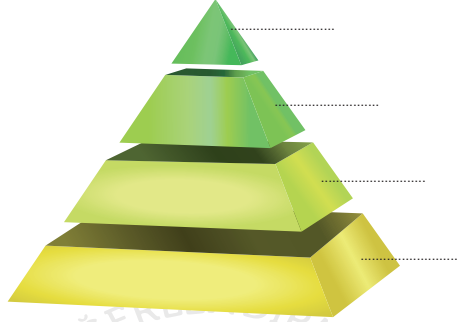
.....

.....

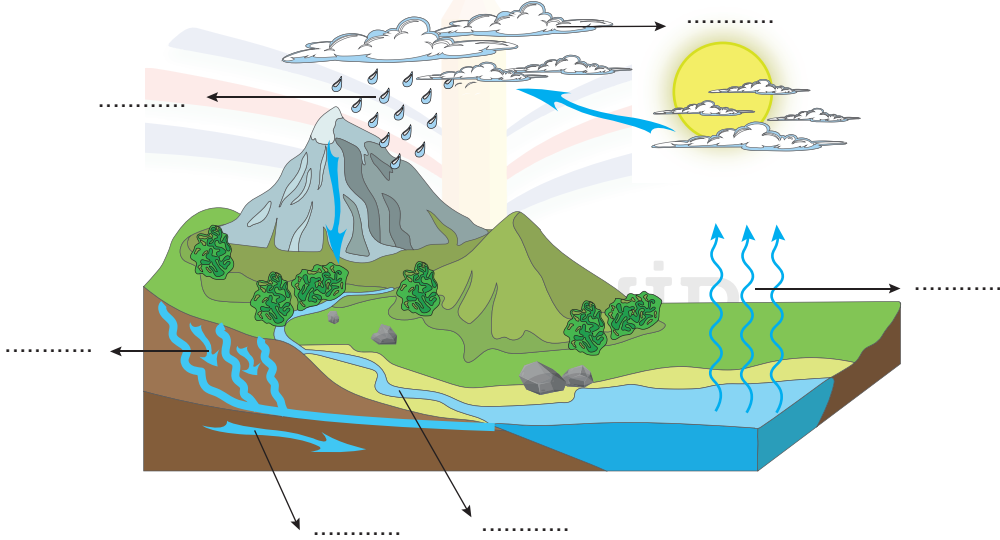
.....

.....

5. Ot, Kartal, Fare ve Yılan canlılarını besin zincirini temsil eden piramit üzerine yerleştiriniz.



6. Su döngüsünün aşamalarını şekil üzerindeki noktalı yerlere yazınız.



7. Karbon döngüsünün işleyişi sırasında hangi durumlarda karbon açığa çıkmaktadır?

.....

.....

.....

.....

8. Ramsar Sözleşmesi, Sulak Alanların Korunması Sözleşmesi adıyla, 2 Şubat 1971 tarihinde İran'ın Ramsar kentinde imzalanan ve 1975 yılında yürürlüğe giren uluslararası sözleşmedir. Türkiye, Ramsar Sözleşmesini 1994 yılında kabul etmiştir. Türkiye'de 14 adet Ramsar alanı bulunmaktadır.

Türkiye'nin Ramsar Sözleşmesi Alanı'nda bulunan üç yerin adını yazınız.

.....
.....
.....

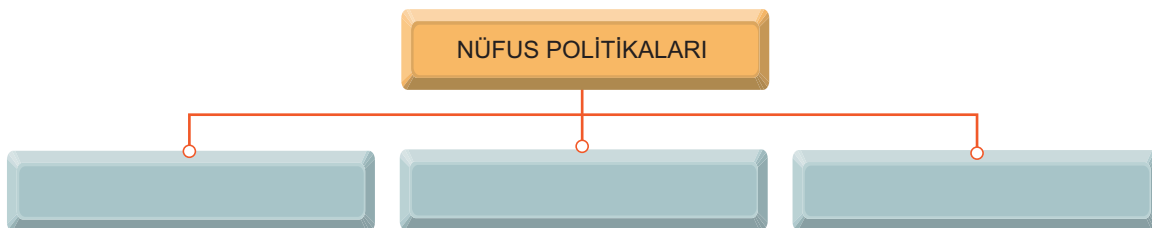
9. **Biyokaçakçılık nedir? Bu kaçakçılığa konu olan varlıklar nelerdir?**

.....
.....
.....
.....

10. **Anız yakma işleminin zararlı olmasının nedenleri nelerdir?**

.....
.....
.....
.....

11. **Dünyada uygulanan nüfus politika çeşitlerini aşağıdaki şema üzerine yazınız.**



12. Türkiye'nin nüfus artış hızı son yıllarda düşmeye başlamıştır. Bu düşüşün devam etmesi durumunda, gelecekte Türkiye'de ne gibi sorunlar ortaya çıkması beklenir?

.....

.....

.....

.....

13. Aşağıda verilen cümlelerin nüfus artış hızı üzerindeki etkisini tablonun sağ tarafındaki alanlara işaretleyiniz.

	Nüfus artış hızını	
	Artırır	Azaltır
A- Evlenme yaşının küçültülmesi		
B-Doğum kontrolüyle ilgili araç gereçlerin ücretsiz dağıtılması		
C-Doğum yapan kadınlara ücretli ve uzun süreli izin verilmesi		
D-Çok çocuklu ailelerin bazı vergilerden muaf tutulması		
E-Çocukların masraflarının devlet tarafından karşılanması		
F-Çocuk sahibi olmayan yaşlıların bakımını devletin üstlenmesi		

14. Şehirlerin sahip olduğu fonksiyonlara dünyadan birer örnek şehir yazınız.

1 İdari Şehirler	<input type="text"/>	6 Sanayi Şehirleri	<input type="text"/>
2 Dini Şehirler	<input type="text"/>	7 Maden Şehirleri	<input type="text"/>
3 Askeri Şehirler	<input type="text"/>	8 Turizm Şehirleri	<input type="text"/>
4 Liman Şehirleri	<input type="text"/>	9 Kültürel Şehirler	<input type="text"/>
5 Tarım Şehirleri	<input type="text"/>	10 Ticaret Şehirleri	<input type="text"/>

15. 2011 yılında Cittaslow unvanını alan ve Türkiye'nin en büyük adası olan Gökçeada, bu unvanı ile dünyanın ilk ve tek sakin adası olmuştur.

Gökçeada hangi özelliklere sahip olmasından dolayı Sakin Şehir olarak seçilmiştir?

.....

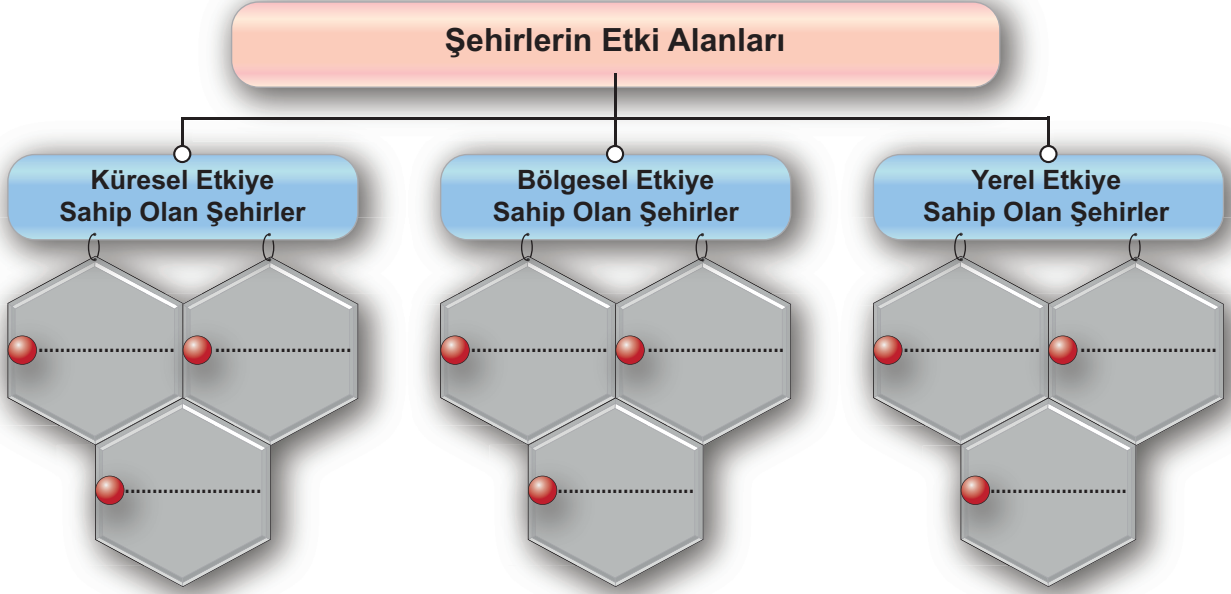
.....

.....

.....

16. Aşağıda verilen şehirleri şema üzerindeki etki alanlarına göre yerleştiriniz.

Tahran, Halep, Şanghay, Jakarta, New York, Mexico City, Londra, Dedeoğaç, Tiflis.



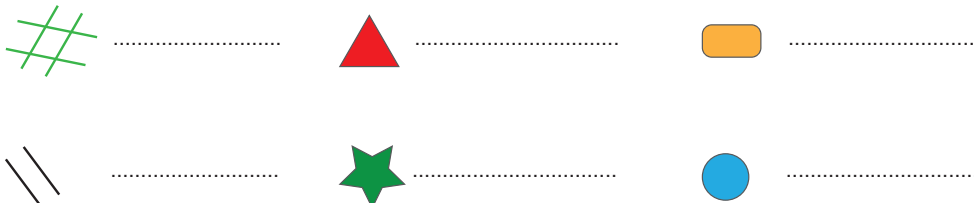
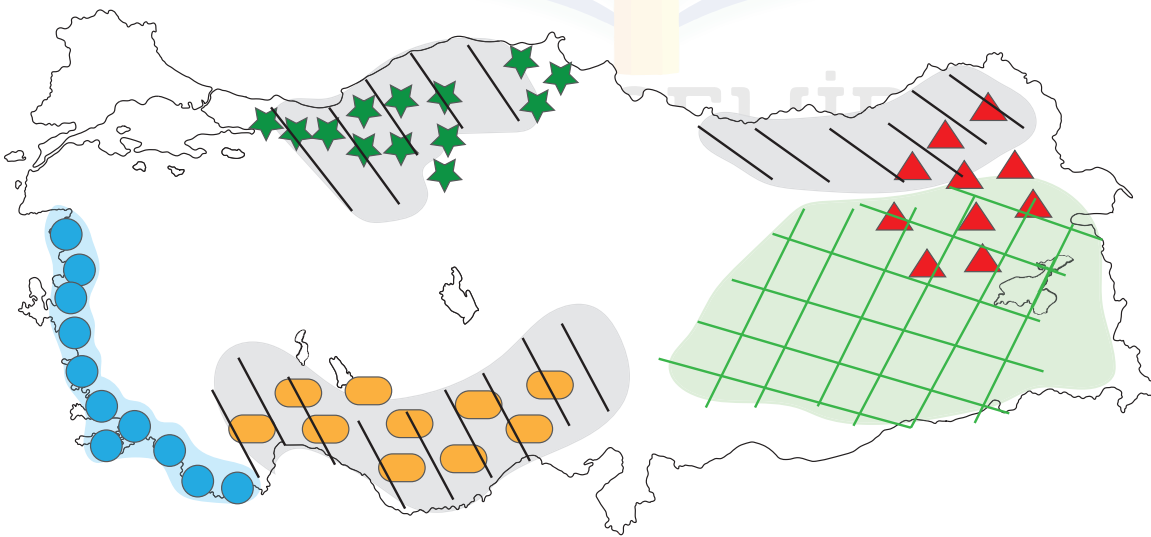
17. Türkiye’de bulunan köyden küçük yerleşmeleri geçici ve sürekli olanlar şeklinde gruplandırınız.

Geçici yerleşmeler:.....

Sürekli yerleşmeler:.....

18. Aşağıdaki haritada Türkiyedeki bazı köyden küçük kırsal yerleşmelerin dağılışı gösterilmiştir.

Bu yerleşmelerin işimlerini haritanın altındaki lejant kısmına yazınız.



Aşağıdaki çoktan seçmeli soruları cevaplayınız.

19. Aşağıda bir yerleşme tipinin bazı özellikleri verilmiştir:

- Ekonomik yapısı çoğunlukla tarım ve hayvancılığa dayanmaktadır.
- Sağlık ve eğitim olanakları bakımından bazı yetersizlikler görülebilir.
- İnsanlar arasında sosyal ilişkiler genellikle güçlüdür.
- Türkiye'deki en küçük idari yerleşme birimini oluşturur.

Bu yerleşme tipinin aşağıdakilerden hangisi olması beklenir?

- A) Kom B) Köy C) Ağıl
D) Oba E) Dam

(2022-AYT) COĞRAFYA - 1 TESTİ

20. Bir ekosistemde canlıların yaşamı için gerekli döngülerden biri de karbon döngüsüdür. Atmosfer, su ve yer kabuğu gibi farklı ortamlardaki karbon çeşitli olaylar sonucu bir ortamdan diğerine geçebilmektedir.

Bu döngü sırasında karbonun açığa çıkması;

- I. fosil yakıtların yanması,
II. kireç taşının ayrışması,
III. bitkilerin fotosentez yapması

olaylarından hangileri sonucu gerçekleşir?

- A) Yalnız I B) Yalnız II C) Yalnız III
D) I ve II E) II ve III

(2022-AYT) COĞRAFYA - 2 TESTİ

21. Uluslararası ticaret, borsa, bankacılık gibi ekonomik faaliyetlerin yoğun olarak yapıldığı şehirler aynı zamanda küresel etkiye de sahiptir.



Haritada numaralandırılarak gösterilen yerlerden hangilerinde bu niteliklere sahip bir şehir bulunur?

- A) I ve II B) I ve III C) II ve III
D) II ve IV E) III ve IV

(2022-AYT) COĞRAFYA - 2 TESTİ

22. Ilıman iklim koşulları, toprak yapısının elverişli olması ve su kaynaklarının bolluğu gibi faktörlerin etkisiyle Mezopotamya, Mısır, Hindistan, Çin ve Orta Amerika'da tarımsal faaliyetlere bağlı olarak şehirlerin temelleri oluşmaya başlamıştır. İlk kurulan bu şehirlerde zamanla üretimin artması sonucu ortaya çıkan üretim fazlası ürünler, insanlar arasında değiş tokuş yöntemiyle el değiştirmeye başlamış ve başka alanlardan insanların da buralara gelmesiyle şehirlerin nüfusu giderek artmıştır.

Bu durum ilk kurulan şehirlerde tarımdan sonra aşağıdaki hangi ekonomik faaliyetin gelişmesine daha fazla katkı sağlamıştır?

- A) Sanayi B) Ticaret C) Ulaşım
D) Turizm E) Madencilik

(2021-AYT) COĞRAFYA - 1 TESTİ

23. Yıllık ortalama yağışın 200 mm'nin altına düştüğü alanlarda bitkilerin pek çoğu yaşayamaz.



Haritada numaralandırılan alanların hangisinde belirtilen koşullardan dolayı bitki yaşamının daha sınırlı olduğu söylenebilir?

- A) I B) II C) III D) IV E) V

(2021-AYT) COĞRAFYA - 2 TESTİ

24. Genel olarak engebenin fazla olduğu alanlarda yağış, sıcaklık, nem gibi iklim elemanları kısa mesafelerde değişiklik gösterdiği için bu alanlarda engebenin az olduğu alanlara göre biyoçeşitliliğin daha zengin olması beklenir.



Haritada numaralandırılan alanların hangilerinde bu nedene bağlı olarak biyoçeşitliliğin daha zengin olduğu söylenebilir?

- A) I ve II B) I ve III C) II ve III
D) II ve IV E) III ve IV

(2020-AYT) COĞRAFYA - 1 TESTİ

25. Dünya ekonomisinde önemli bir yere sahip olan ve sermayenin küresel dolaşımını kontrol eden şehirler küresel bir etkiye sahiptir. Bunlar aynı zamanda mal, hizmet, bilgi ve kültür alanlarında küresel ölçekte birer üretim ve dağıtım merkezleridir.

Bu nitelikler aşağıdaki şehirlerin hangisinde daha azdır?

- A) Lizbon B) Paris C) New York
D) Tokyo E) Londra

(2020-AYT) COĞRAFYA - 1 TESTİ

26. K ülkesi nüfus artış hızını artırıcı, L ülkesi ise nüfus artış hızını azaltıcı politikalar izlemiştir. Her iki ülke de uzunca bir dönem uyguladıkları bu politikalarda başarıya ulaşmıştır.

Bu ülkelerle ilgili olarak,

- I. K ülkesinde genç nüfus oranı artmıştır.
II. K ülkesinde yaşlı nüfus miktarı azalmıştır.
III. L ülkesinde doğum oranı azalmıştır.
IV. L ülkesinin genç nüfus oranı artmıştır.

yargılarından hangileri doğrudur?

- A) I ve II B) I ve III C) II ve III
D) II ve IV E) III ve IV

(2020-AYT) COĞRAFYA - 1 TESTİ

27. Türkiye'de; doğum, ölüm ve göçler sonucu değişen nüfus özelliklerine bağlı olarak belirli dönemlerde farklı nitelikte nüfus politikaları uygulanmıştır. Bunlardan biri de 1923 ile 1963 arası dönem olup bu dönemde nüfusun artırılmasına yönelik politikalar izlenmiştir.

Aşağıdakilerden hangisi bu dönemde uygulanan nüfus politikalarının gerekçelerinden biridir?

- A) Doğal kaynakları işleyebilecek nüfusun az olması
B) İstihdam sorunları sebebiyle işsizliğin artması
C) Çok çocuklu ailelerin sayıca fazla olması
D) Nüfusa bağlı yatırımların artması ve tasarrufların azalması
E) Makineleşme sonucu tarım alanında iş gücüne duyulan ihtiyacın azalması

(2020-AYT) COĞRAFYA - 2 TESTİ

28. Denizel ve karasal olmak üzere iki bölüme ayrılan su ekosistemleri biyoçeşitlilik açısından dünyanın önemli alanlarını oluştururlar. Bu ekosistemlerde; suyun fiziksel ve kimyasal özellikleri, durgun veya hareketli olması, sıcaklığı, derinliği, ışık ve besin madde miktarı gibi faktörler biyoçeşitlilik üzerinde önemli bir etkiye sahiptir.

Bu ekosistemlerdeki biyoçeşitliliği kle ilgili aşağıdakilerden hangisi doğrudur?

- A) Kıyılarda karalardan taşınan besin maddelerinin açık denizlerden daha fazla olması canlı çeşitliliğini artırır.
B) Okyanus ve denizlerde 500 metreden daha derin ortamlarda canlı çeşitliliği daha fazladır.
C) Akarsuların yukarı çığırlarında yatak eğiminin fazla, akış hızının yüksek ve suların soğuk olması biyoçeşitliliği artırır.
D) Akarsuların okyanus veya denize döküldüğü ağız kısmı sıcaklık ve tuzluluk yönünden elverişsiz olduğu için biyoçeşitlilik düşüktür.
E) Kapalı havzalarda bulunan göllerde su sıcaklığının ve seviyesinin mevsimden mevsime değişmesi biyoçeşitliliği artırır.

(2020-AYT) COĞRAFYA - 2 TESTİ

29. Sanayileşme sürecine bağlı olarak büyüyen şehirlerde;

- I. şehirlere olan göçün hızlanması,
II. tarımsal üretimin artması,
III. ulaşım hizmetlerine talebin artması

durumlarından hangileri ortak özellik gösterir?

- A) Yalnız I B) Yalnız II C) Yalnız III
D) I ve II E) I ve III

(2020-AYT) COĞRAFYA - 2 TESTİ

30. Sanayi Devrimi süreciyle şehirlerde tarım dışı fonksiyonlar hızla gelişerek çeşitlenmiş buna bağlı olarak, var olan şehirler büyümüş, yeni şehirler kurulmaya başlanmıştır.

Bu şehirlerin sayısının ve nüfusunun artması üzerinde aşağıdakilerden hangisinin etkisi daha fazla olmuştur?

- A) Göçlerin artması
B) Ulaşımın gelişmesi
C) Tüketimin artması
D) Sağlık olanaklarının daha iyi olması
E) Alışveriş merkezlerinin kurulması

(2019-AYT) COĞRAFYA - 1 TESTİ

31. Tropikal Yağmur Ormanları, bitki ve hayvan türleri bakımından Dünya'nın en zengin alanlarıdır.

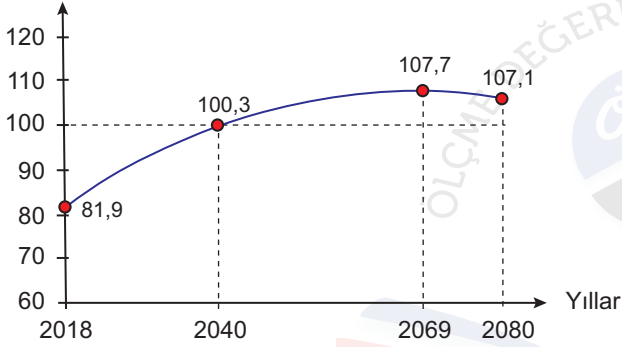
Bu alanların tür bakımından zengin olmasının nedenleri arasında aşağıdakilerden hangisi bulunmaz?

- A) Mutlak konumları
B) Sürekli yağış almaları
C) Su kaynaklarının bolluğu
D) Tarımın yaygın olması
E) Yıllık sıcaklık farklarının düşük olması

(2019-AYT) COĞRAFYA - 2 TESTİ

32. Aşağıda, Türkiye'nin 2017 yılı nüfusu baz alınarak TÜİK tarafından hazırlanan ve Türkiye'nin 2018-2080 yılları arasındaki nüfusunun olası durumunu gösteren bir grafik verilmiştir.

Türkiye Nüfusu - 2018-2080
(milyon kişi)



Yalnızca grafikteki bilgiler dikkate alındığında nüfusun geleceğiyle ilgili olarak,

- I. 2069 yılından sonra toplam nüfus miktarı azalacaktır.
II. 2040 yılına kadar olan nüfus artışında göçler etkili olacaktır.
III. 2040-2069 yılları arasında nüfus miktarı sürekli artacaktır.

yargılarından hangilerinin gerçekleşmesi beklenir?

- A) Yalnız I B) Yalnız II C) Yalnız III
D) I ve II E) I ve III

(2019-AYT) COĞRAFYA - 2 TESTİ

33. Şehirlerin etki alanları birbirinden farklıdır. Örneğin New York'un günümüzdeki küresel etki alanı Kiev'den daha geniştir.

Aşağıdakilerden hangisi bu durumun temel nedenidir?

- A) Mutlak konumları B) Yüz ölçümleri
C) Fonksiyonları D) Yeryüzü şekilleri
E) Buldukları kıta

(2019-AYT) COĞRAFYA - 2 TESTİ

34. Aşağıdaki haritada bazı alanlar numaralandırılarak koyu renkle gösterilmiştir.



Bu alanların hangilerinde, insan faaliyetlerinin biyoçeşitliliğe olan olumsuz etkilerinin daha az olması beklenir?

- A) I ve II B) I ve IV C) II ve III
D) III ve V E) IV ve V

(2018-AYT) COĞRAFYA - 2 TESTİ

35. Aşağıdaki şehirlerden hangisinin nüfuslanması ve büyümesinde sanayi fonksiyonunun etkisi belirleyici olmuştur?

- A) Roma B) Tokyo C) Hong-Kong
D) Dubai E) Johannesburg

(2018-AYT) COĞRAFYA - 2 TESTİ