

5. Meridyenler ile ilgili soruların yanıtlarını altlarında yer alan boşluklara yazınız.

- İngiltere'nin başkenti Londra yakınlarındaki Greenwich (Griniç) gözlemevi üzerinden geçen meridyenin adı nedir? Kaç derece ile gösterilir?

.....

- Doğu Yarım Küre'de ve Batı Yarım Küre'de kaç adet meridyen bulunmaktadır? Her iki yarım kürede bulunan toplam meridyen sayısı kaçtır?

.....

- Ekvator üzerinde meridyenler arasındaki mesafe kaç kilometredir?

.....

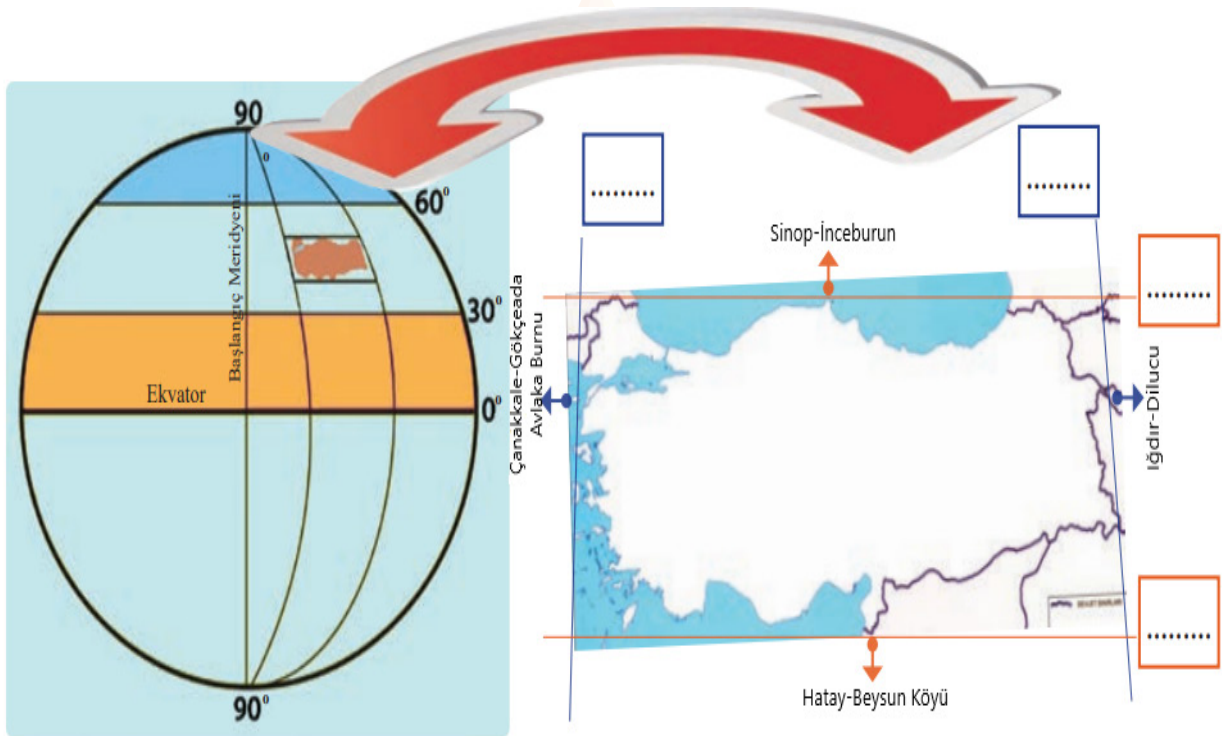
- Meridyenler hangi tür hesaplamalarda kullanılır?

.....

- Her iki meridyen arasındaki zaman farkı kaç dakikadır?

.....

6. Türkiye'nin mutlak konumunu şekilde verilen ilgili kutucuklara yazınız.



7. Aşağıdakilerden hangisi Türkiye'nin mutlak konumunun sonucu değildir?

- A) Sıcaklığın batıdan doğuya doğru azalması
- B) Dört mevsimin belirgin şekilde yaşanması
- C) Güney kıyıların kuzey kıyılara göre daha sıcak olması
- D) Kuzeyden esen rüzgârların sıcaklığı düşürürken güneyden esen rüzgârların sıcaklığı artırması

8. Herhangi bir yerin kıtalara, okyanuslara, denizlere, yer şekillerine, yer altı kaynaklarına, ulaşım yollarına ve komşu ülkelere göre belirlenen konumuna verilen ad nedir?

Yanıtınızı aşağıda yer alan bölüme yazınız.

.....

9. Aşağıdaki soruları haritaya göre yanıtlayınız.



- Kıtaların adlarını harita üzerinde ayrılan yerlere yazınız.
- Sadece Kuzey Yarım Küre'de yer alan kıtaları yazınız.

- Sadece Güney Yarım Küre'de yer alan kıtaları yazınız.

10. Türkiye’de ulaşım genellikle doğu batı yönünde yapılmaktadır.

Bu durumun temel nedeni aşağıdakilerden hangisidir?

- A) İklimin etkisi
B) Dağların uzanış doğrultusu
C) Yer altı zenginlikleri
D) Bitki örtüsünün yapısı

11. Yükselti ve engebenin fazla olduğu yerlerde tarım alanları parçalı ve dağınıktır.

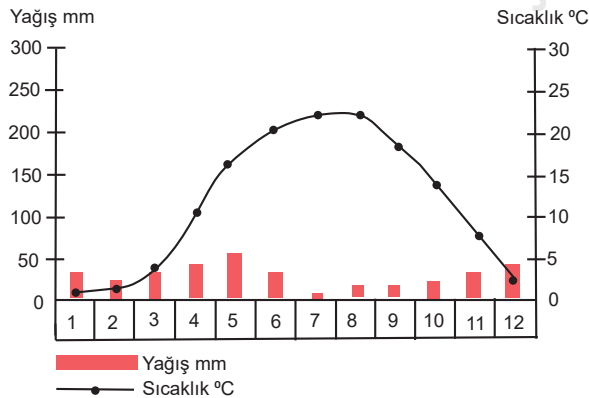
Aşağıdaki bölgelerden hangisi bu bilgiyi desteklemektedir?

- A) İç Anadolu Bölgesi
B) Marmara Bölgesi
C) Güneydoğu Anadolu Bölgesi
D) Karadeniz Bölgesi

12,13 ve 14. soruları haritaya göre yanıtlayınız.



12. Aşağıdaki iklim grafiği, haritada hangi renkle gösterilen alana aittir? Yanıtınızı grafiğin yanındaki alana yazınız.



13. Yeşil renkli alan ile ilgili soruların yanıtlarını altlarında ayrılan yerlere yazınız.

- En fazla yağış hangi mevsimde düşer?

.....

- Bitki örtüsü nedir?

.....

- Kırsal kesimde evler genellikle hangi malzemeden yapılır?

.....

14. Mavi renkli alan için

- Güneşli gün sayısı fazladır.
- Kıyı turizmi gelişmiştir.
- Yıllık ve günlük sıcaklık farkı fazladır.
- En fazla yağış kış mevsiminde düşer.

ifadelerinden hangileri doğrudur?

- A) I ve III B) II ve IV C) III ve IV D) I, II ve IV

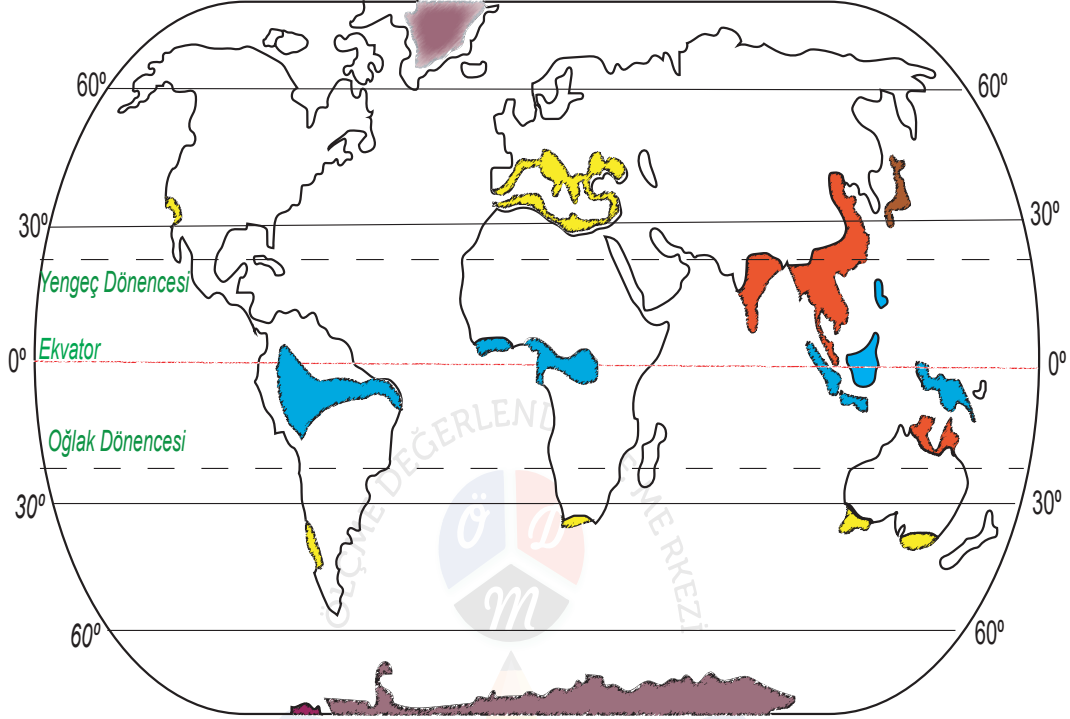
15. Bilgilerdeki boşlukları uygun ifadelerle doldurunuz.

- Belirli bir zamanda, sınırları tanımlı bir bölgede yaşayan, aralarında belirli toplumsal-ekonomik ilişkiler bulunan insanların tümüne denir.
- Nüfusun yeryüzüne dağılışında insan etkisinin olmadığı faktörlere faktörler denir.
- Nüfusun yeryüzüne dağılışında insan etkisinin olduğu faktörlere faktörler denir.
- İşlenmemiş (ham) ya da yarı işlenmiş maddelerin işlenerek mamul (kullanılabilir) madde hâline getirilmesine denir.

16. Zonguldak, Batman, Soma (Manisa), Murgul (Artvin), Seydişehir (Konya)'de ekonominin canlanmasının ve buna bağlı olarak nüfusun artmasının nedeni nedir?

- A) Hayvancılık B) Madencilik C) Tarım D) Turizm

17-18-19 ve 20. soruları haritaya göre yanıtlayınız.



17. Sarı renkli alanlarda hangi iklim görülür? Yanıtınızı sorunun altına yazınız.

.....

18. Mor renkli alanlar için

- I. Haritanın kuzeyinde gösterilen alanda Eskimo denilen insanlar yaşar.
- II. Yaz mevsiminde buz tabakası erimektedir.
- III. Haritanın güneyinde gösterilen alanda iglo adı verilen barınaklar vardır.

ifadelerinden hangileri doğrudur?

A) Yalnız I

B) Yalnız III

C) I ve II

D) II ve III

19. "Benim adım Ravi. Asya kıtasının güneyinde yer alan Hindistan'da yaşamaktayım. Burada yazları bol yağışlar görülürken kışları yağışlar oldukça azalır. Yaz mevsiminde etkili olan aşırı yağışlar bölgemizde sellere neden olmaktadır. Tarım alanları ve evler sel suları altında kalmaktadır. Bu durum hayatımızı oldukça zorlaştırmaktadır. Burada yetiştirilen pirinç sofralarımızın en çok tüketilen yiyeceğidir."

Ravi, haritada hangi renkle gösterilen alanlardan birinde yaşamaktadır?

A) Sarı

B) Mavi

C) Kırmızı

D) Mor

20. **Mavi renkli alanda hangi iklim görülmektedir?**

A) Ekvatorial

B) Muson

C) Kutup

D) Akdeniz

