

1. Yeryüzünün tamamının ya da bir parçasının, kuşbakışı görünüşüyle belli bir orana göre küçültülüp bir düzlem üzerine geçirilmesine harita denir.

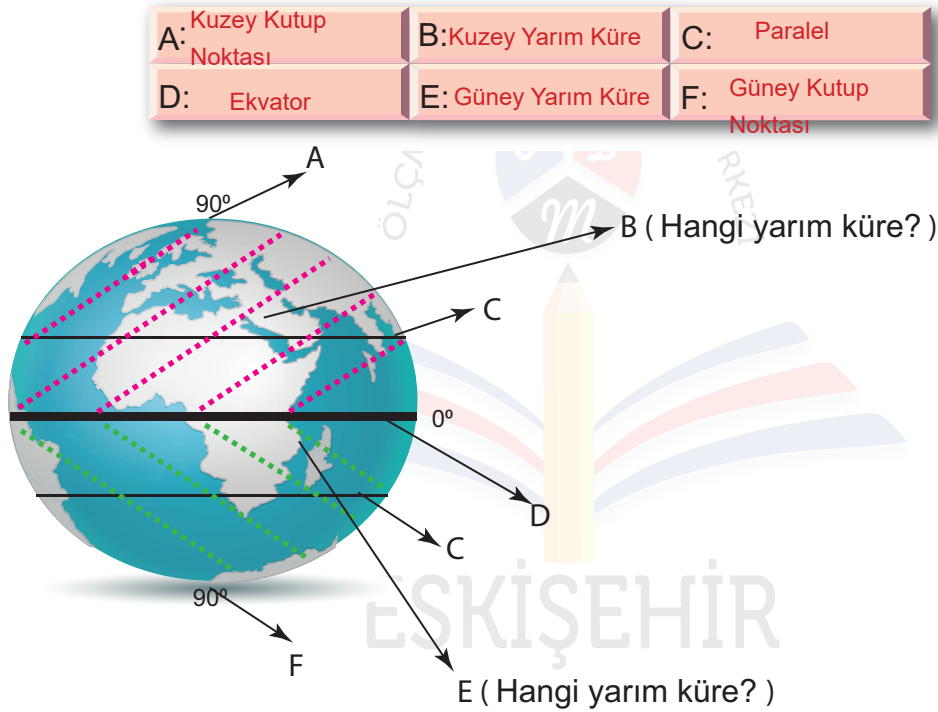
Bir çizimin harita özelliği taşıması için

- I. Kuşbakışı görünüm
- II. Perspektif
- III. Ölçek

özelliklerinden hangilerine sahip olması gerekir?

- A) Yalnız I B) I ve II C) I ve III D) II ve III

2. Şekil üzerinde harflerle gösterilen alanların adlarını üst tarafta yer alan kutuların içine yazınız.



3. Metindeki boşlukları uygun sözel ve sayısal ifadelerle doldurunuz.

Ekvatorun kuzeyinde90....., güneyinde90..... olmak üzere toplam180..... paralel vardır. Ekvator başlangıç paralelidir (0°) ve oradan uzaklaştıkça paralel dereceleri büyür. Ardışık iki paralel arası mesafe Dünya'nın her yerinde111..... km'dir.

4. Ekvator'dan kutuplara doğru gidildikçe paralellerin boyları kısalmır ve kutuplarda nokta halini alır.

Bu durumun temel sebebi aşağıdakilerden hangisidir?

- A) Dünyanın şekli B) Matematiksel konum
C) Eksen eğikliği D) İklim özellikleri

5. Meridyenler ile ilgili soruların yanıtlarını altlarında yer alan boşluklara yazınız.

- İngiltere'nin başkenti Londra yakınlarındaki Greenwich (Griniç) gözlemevi üzerinden geçen meridyenin adı nedir? Kaç derece ile gösterilir?

Başlangıç meridyeni - 0°

- Doğu Yarım Küre'de ve Batı Yarım Küre'de kaç adet meridyen bulunmaktadır? Her iki yarım kürede bulunan toplam meridyen sayısı kaçtır?

180+180=360

- Ekvator üzerinde meridyenler arasındaki mesafe kaç kilometredir?

111

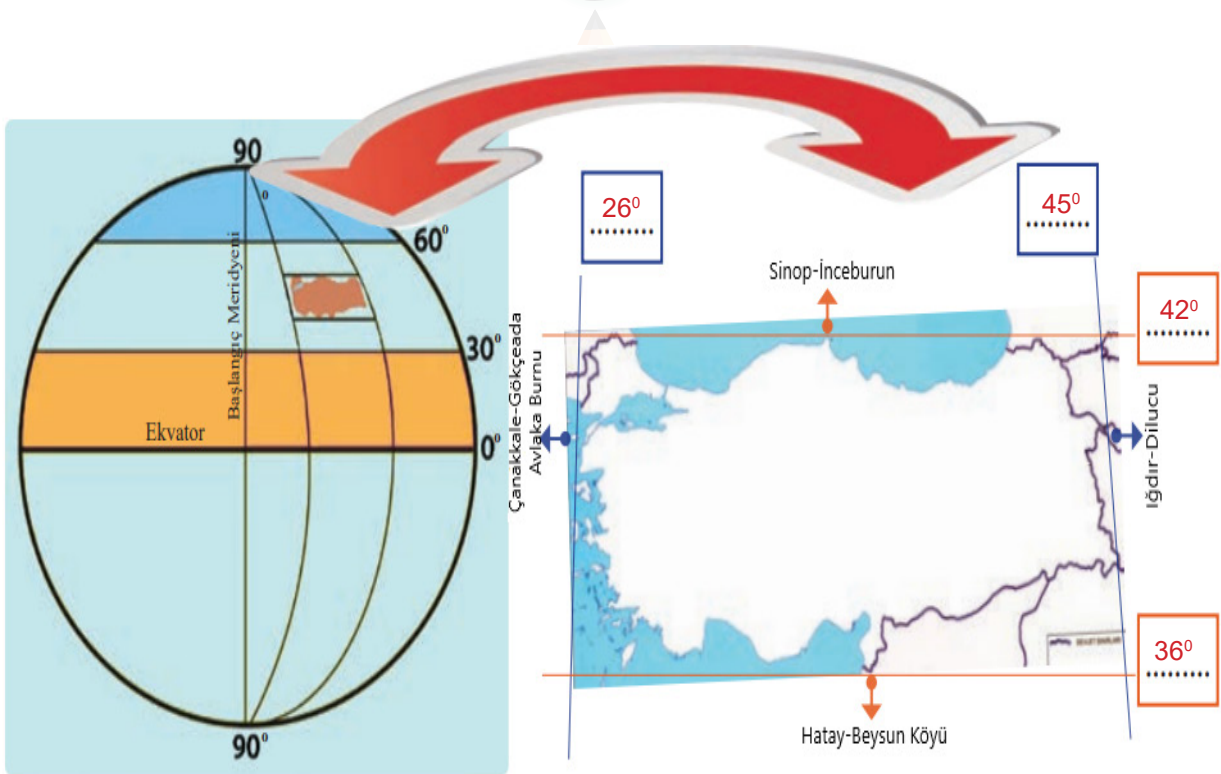
- Meridyenler hangi tür hesaplamalarda kullanılır?

Yerel saat hesaplamaları

- Her iki meridyen arasındaki zaman farkı kaç dakikadır?

4 dakika

6. Türkiye'nin mutlak konumunu şekilde verilen ilgili kutucuklara yazınız.



(36°-42° kuzey paralelleri, 26°-45° doğu meridyenleri)

7. Aşağıdakilerden hangisi Türkiye'nin mutlak konumunun sonucu değildir?

- (A) Sıcaklığın batıdan doğuya doğru azalması
 B) Dört mevsimin belirgin şekilde yaşanması
 C) Güney kıyıların kuzey kıyılara göre daha sıcak olması
 D) Kuzeyden esen rüzgârların sıcaklığı düşürürken güneyden esen rüzgârların sıcaklığı artırması

8. Herhangi bir yerin kıtalara, okyanuslara, denizlere, yer şekillerine, yer altı kaynaklarına, ulaşım yollarına ve komşu ülkelere göre belirlenen konumuna verilen ad nedir?

Yanıtınızı aşağıda yer alan bölüme yazınız.

.....Göreceli konum.....

9. Aşağıdaki soruları haritaya göre yanıtlayınız.



- Kıtaların adlarını harita üzerinde ayrılan yerlere yazınız.
- Sadece Kuzey Yarım Küre'de yer alan kıtaları yazınız.

Kuzey Amerika, Avrupa

- Sadece Güney Yarım Küre'de yer alan kıtaları yazınız.

Avustralya (Okyanusya), Antarktika

10. Türkiye'de ulaşım genellikle doğu batı yönünde yapılmaktadır.

Bu durumun temel nedeni aşağıdakilerden hangisidir?

- A) İklimin etkisi
B) Dağların uzanış doğrultusu
C) Yer altı zenginlikleri
D) Bitki örtüsünün yapısı

11. Yükselti ve engebenin fazla olduğu yerlerde tarım alanları parçalı ve dağınıktır.

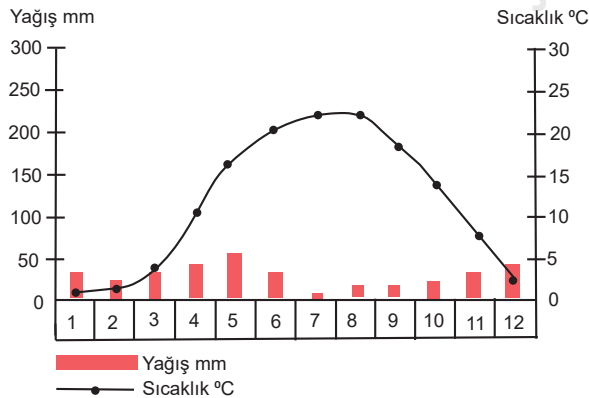
Aşağıdaki bölgelerden hangisi bu bilgiyi desteklemektedir?

- A) İç Anadolu Bölgesi
B) Marmara Bölgesi
C) Güneydoğu Anadolu Bölgesi
D) Karadeniz Bölgesi

12,13 ve 14. soruları haritaya göre yanıtlayınız.



12. Aşağıdaki iklim grafiği, haritada hangi renkle gösterilen alana aittir? Yanıtınızı grafiğin yanındaki alana yazınız.



Sarı

13. Yeşil renkli alan ile ilgili soruların yanıtlarını altlarında ayrılan yerlere yazınız.

- En fazla yağış hangi mevsimde düşer?

Sonbahar

- Bitki örtüsü nedir?

Orman

- Kırsal kesimde evler genellikle hangi malzemeden yapılır?

Ahşap

14. Mavi renkli alan için

- Güneşli gün sayısı fazladır.
- Kıyı turizmi gelişmiştir.
- Yıllık ve günlük sıcaklık farkı fazladır.
- En fazla yağış kış mevsiminde düşer.

ifadelerinden hangileri doğrudur?

A) I ve III

B) II ve IV

C) III ve IV

D) I, II ve IV

15. Bilgilerdeki boşlukları uygun ifadelerle doldurunuz.

- Belirli bir zamanda, sınırları tanımlı bir bölgede yaşayan, aralarında belirli toplumsal-ekonomik ilişkiler bulunan insanların tümüne nüfus denir.
- Nüfusun yeryüzüne dağılışında insan etkisinin olmadığı faktörlere doğal faktörler denir.
- Nüfusun yeryüzüne dağılışında insan etkisinin olduğu faktörlere beşerî faktörler denir.
- İşlenmemiş (ham) ya da yarı işlenmiş maddelerin işlenerek mamul (kullanılabilir) madde hâline getirilmesine sanayi denir.

16. Zonguldak, Batman, Soma (Manisa), Murgul (Artvin), Seydişehir (Konya)'de ekonominin canlanmasının ve buna bağlı olarak nüfusun artmasının nedeni nedir?

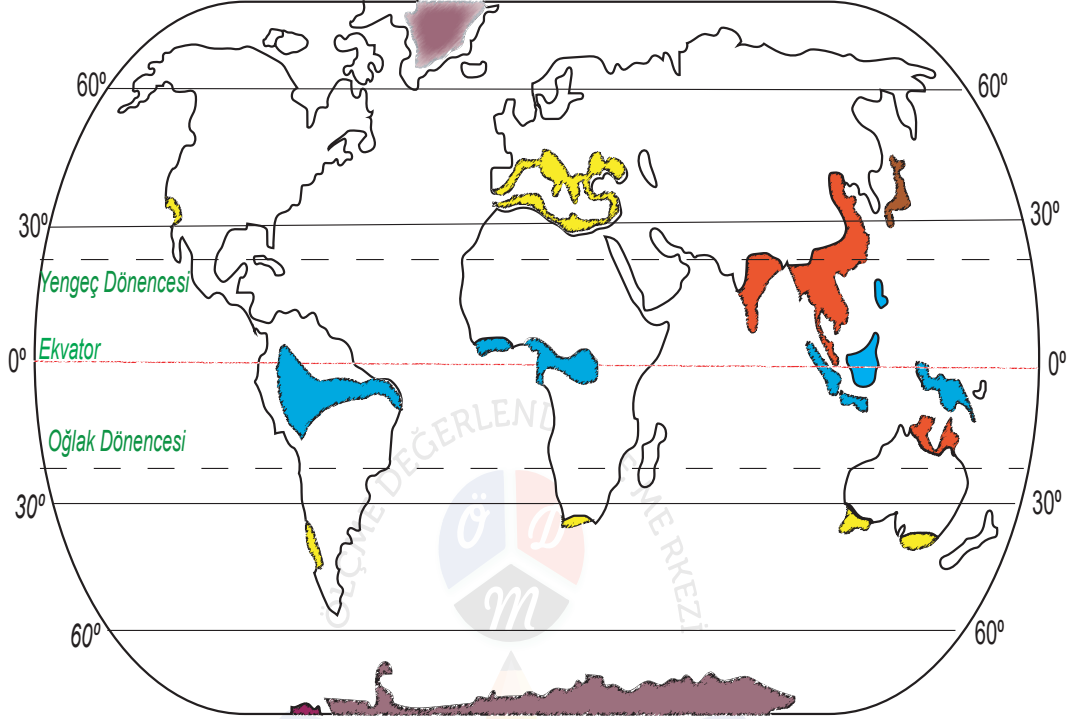
A) Hayvancılık

B) Madencilik

C) Tarım

D) Turizm

17-18-19 ve 20. soruları haritaya göre yanıtlayınız.



17. Sarı renkli alanlarda hangi iklim görülür? Yanıtınızı sorunun altına yazınız.

.....Akdeniz İklimi.....

18. Mor renkli alanlar için

- I. Haritanın kuzeyinde gösterilen alanda Eskimo denilen insanlar yaşar.
- II. Yaz mevsiminde buz tabakası erimektedir.
- III. Haritanın güneyinde gösterilen alanda iglo adı verilen barınaklar vardır.

ifadelerinden hangileri doğrudur?

A) Yalnız I

B) Yalnız III

C) I ve II

D) II ve III

19. "Benim adım Ravi. Asya kıtasının güneyinde yer alan Hindistan'da yaşamaktayım. Burada yazları bol yağışlar görülürken kışları yağışlar oldukça azalır. Yaz mevsiminde etkili olan aşırı yağışlar bölgemizde sellere neden olmaktadır. Tarım alanları ve evler sel suları altında kalmaktadır. Bu durum hayatımızı oldukça zorlaştırmaktadır. Burada yetiştirilen pirinç sofralarımızın en çok tüketilen yiyeceğidir."

Ravi, haritada hangi renkle gösterilen alanlardan birinde yaşamaktadır?

A) Sarı

B) Mavi

C) Kırmızı

D) Mor

20. **Mavi renkli alanda hangi iklim görülmektedir?**

A) Ekvatorial

B) Muson

C) Kutup

D) Akdeniz

