

ÖĞRENCİ

ADI:
SOYADI:
SINIFI:NO:

ESKİŞEHİR İL MİLLÎ EĞİTİM MÜDÜRLÜĞÜ
ÖLÇME DEĞERLENDİRME MERKEZİ
2023-2024 EĞİTİM-ÖĞRETİM YILI
COĞRAFYA DERSİ 11. SINIFLAR (4 SAAT)
2. DÖNEM 1. YAZILI ÖRNEK SORULARI

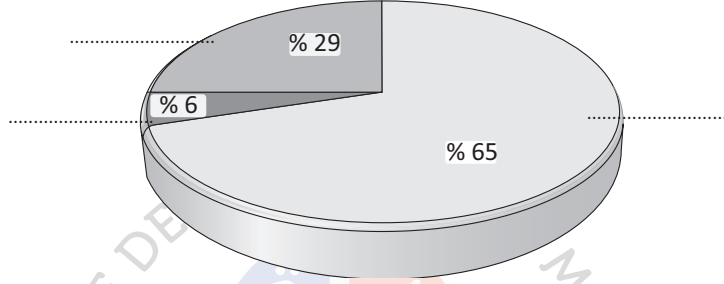
Okulunuzun Adı
.....
.....

Sınav süresi **40** dakikadır.

11.2.14. Türkiye ekonomisinin sektörel dağılımından hareketle ülke ekonomisi hakkında çıkarımlarda bulunur.

1. Aşağıda Türkiye'nin 2018 yılındaki gayrisafi millî hasılasının sektörel dağılımını gösteren grafik verilmiştir.

a) Bu sektörleri grafik üzerindeki bulunması gereken yerlere yazınız. (1+1+1=3 PUAN)

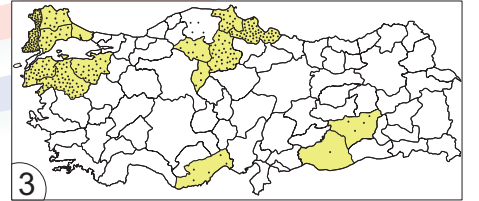
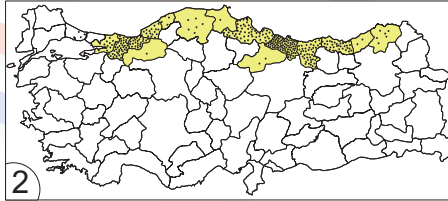
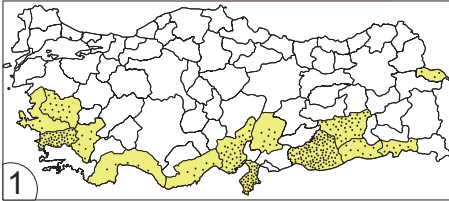


b) Bu dağılıma göre Türkiye'nin gelişmişlik düzeyi hakkında nedenini açıklayarak bilgi veriniz. (7 PUAN)

11.2.15. Türkiye'de tarım sektörünün özelliklerini açıkla.

2. Aşağıda Türkiye'de yetiştirilen bazı tarım ürünlerinin yetiştirme alanlarını gösteren haritalar verilmiştir.

a) Haritaların alt kısımlarına hangi tarım ürününe ait olduğunu yazınız. (3 PUAN)



b) İkinci haritadaki ürünün iklimsel yetiştirme koşullarını kısaca açıklayınız. (7 PUAN)

11.2.17. Türkiye'nin maden ve enerji kaynaklarının dağılışını açıkla.

3. Aşağıda verilen madenlerin çıkarıldığı yerlere birer örnek yazınız. (3+3+3+3+3 = 15 PUAN)

Demir :
Bakır :
Krom :
Boksit :
Bor mineralleri :

Sonraki sayfaya geçiniz.

11.2.18. Türkiye'nin maden ve enerji kaynaklarının etkin kullanımının ülke ekonomisine katkısı açısından değerlendirir.

4. "Türkiye, ülke kalkınmasında enerji üretiminde kendi öz kaynaklarını geliştirmek zorundadır." ifadesini açıklayınız. (10 PUAN)

11.2.19. Türkiye'de sanayi sektörünün özelliklerini açıkla.

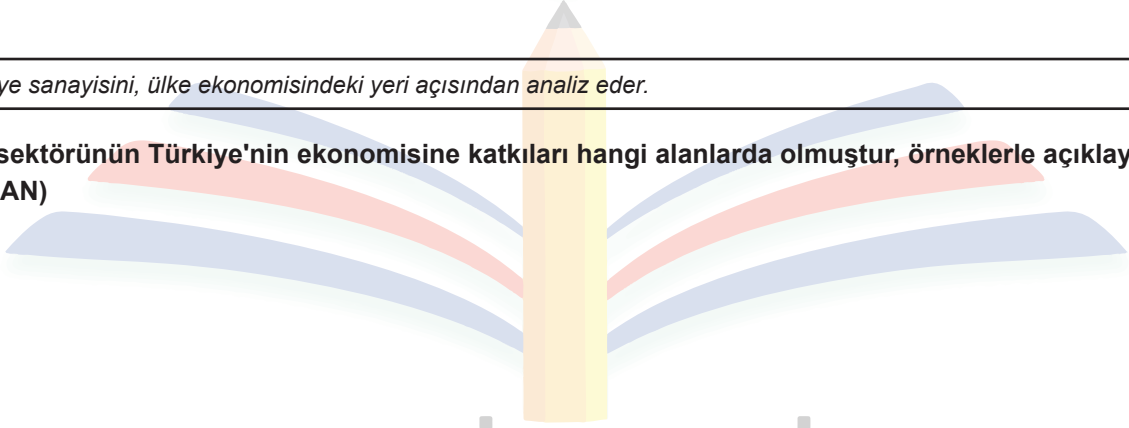
5. Türkiye'nin savunma sanayisi alanında faaliyet gösteren kamu kurumları hangileridir, dört tanesini yazınız. (5+5+5+5 = 20 PUAN)

-
-



11.2.20. Türkiye sanayisini, ülke ekonomisindeki yeri açısından analiz eder.

6. Sanayi sektörünün Türkiye'nin ekonomisine katkıları hangi alanlarda olmuştur, örneklerle açıklayınız? (5+5+5 = 15 PUAN)



11.3.2. Farklı kültürel bölgelerin yeryüzünde yayılışına etki eden faktörleri açıkla.

7. Mezopotamya'da birçok medeniyetin kurulup gelişmesinde bölgenin hangi özellikleri etkili olmuştur? (4+4+4+4+4 = 20 PUAN)

-
-
-
-
-

*** Bu örnek yazılı sınav soruları 9 Şubat 2024 tarihinde yapılan il zümre öğretmenler kurulu toplantısında il/ilçe alan zümre öğretmenlerince kararlaştırılan senaryolardan 3. senaryo dikkate alınarak hazırlanmıştır.