

ÖĞRENCİ

ADI:
SOYADI:
SINIFI:NO:

ESKİŞEHİR İL MİLLÎ EĞİTİM MÜDÜRLÜĞÜ
ÖLÇME DEĞERLENDİRME MERKEZİ
2023-2024 EĞİTİM-ÖĞRETİM YILI
COĞRAFYA DERSİ 11. SINIFLAR (4 SAAT)
2. DÖNEM 1. YAZILI ÖRNEK SORULARI
CEVAP ANAHTARI

Okulunuzun Adı

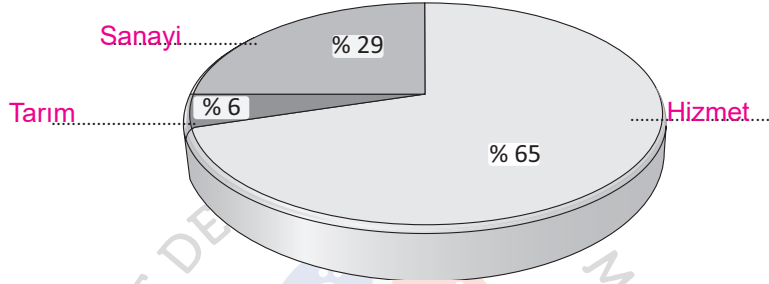
.....
.....
.....

Sınav süresi **40** dakikadır.

11.2.14. Türkiye ekonomisinin sektörel dağılımından hareketle ülke ekonomisi hakkında çıkarımlarda bulunur.

1. Aşağıda Türkiye'nin 2018 yılındaki gayrisafi millî hasılasının sektörel dağılımını gösteren grafik verilmiştir.

a) Bu sektörleri grafik üzerindeki bulunması gereken yerlere yazınız. (1+1+1=3 PUAN)



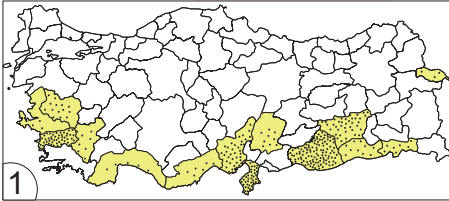
b) Bu dağılıma göre Türkiye'nin gelişmişlik düzeyi hakkında nedenini açıklayarak bilgi veriniz. (7 PUAN)

Sanayi ve hizmet sektörünün toplam gelir içerisindeki payı yüksek ya da tarım sektörünün payı düşük olan ülkeler gelişmiş ülke olarak kabul edilir. Bu grafiğe göre Türkiye gelişmiş ülkeler içerisinde yer almaktadır.

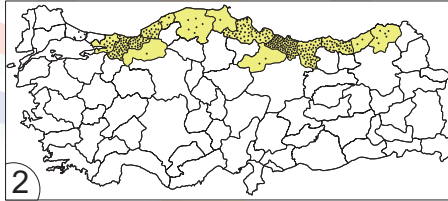
11.2.15. Türkiye'de tarım sektörünün özelliklerini açıkla.

2. Aşağıda Türkiye'de yetiştirilen bazı tarım ürünlerinin yetiştirme alanlarını gösteren haritalar verilmiştir.

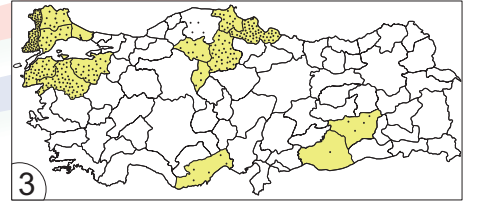
a) Haritaların alt kısımlarına hangi tarım ürününe ait olduğunu yazınız. (3 PUAN)



Pamuk



Fındık



Pirinç

b) İkinci haritadaki ürünün iklimsel yetiştirme koşullarını kısaca açıklayınız. (7 PUAN)

Her mevsimi yağışlı ve yağış miktarı fazla olan yerlerde yetişir. Ayrıca sıcaklığın aşırı düşük olmaması ve nem oranının yüksek olması gerekir.

11.2.17. Türkiye'nin maden ve enerji kaynaklarının dağılımını açıkla.

3. Aşağıda verilen madenlerin çıkarıldığı yerlere birer örnek yazınız. (3+3+3+3+3 = 15 PUAN)

Demir : Divriği (Sivas)
Bakır : Murgul (Artvin)
Krom : Guleman (Elazığ)
Boksit : Seydişehir (Konya)
Bor mineralleri : Kırka (Eskişehir)

Sonraki sayfaya geçiniz.

11.2.18. Türkiye'nin maden ve enerji kaynaklarının etkin kullanımının ülke ekonomisine katkısı açısından değerlendirir.

4. "Türkiye, ülke kalkınmasında enerji üretiminde kendi öz kaynaklarını geliştirmek zorundadır." ifadesini açıklayınız. (10 PUAN)

Türkiye sanayisi hızla gelişen ve enerji ihtiyacında fazla olan bir ülkedir. Aynı zamanda günümüz koşullarında enerjide dışa bağımlılığı da yüksektir. Ülke kalkınmasında enerji çeşitliliğini sağlamak ve enerjide bağımsız kalabilmek için kendi öz kaynaklarına yönelmelidir.

11.2.19. Türkiye'de sanayi sektörünün özelliklerini açıkla.

5. Türkiye'nin savunma sanayisi alanında faaliyet gösteren kamu kurumları hangileridir, dört tanesini yazınız. (5+5+5+5 = 20 PUAN)

- Makine Kimya Endüstrisi Kurumu (MKEK)
- Askerî Elektronik Sanayii (ASELSAN)
- Askerî Pil Sanayii (ASPİLSAN)
- Hava Elektronik Sanayii (HAVELSAN)

Not: Savunma sanayisinde faaliyet gösteren diğer devlet kurumları da doğru yanıt olarak değerlendirilecektir.

11.2.20. Türkiye sanayisini, ülke ekonomisindeki yeri açısından analiz eder.

6. Sanayi sektörünün Türkiye'nin ekonomisine katkıları hangi alanlarda olmuştur, örneklerle açıklayınız? (5+5+5 = 15 PUAN)

Gayrisafi milli hasılanın 1/3'ü sanayi gelirlerinden oluşmaktadır.

Toplam işgücünün 1/4'ü sanayi sektöründe çalışmaktadır.

İhracat gelirlerinin ise %90'ını sanayi ürünleri oluşturmaktadır.

11.3.2. Farklı kültürel bölgelerin yeryüzünde yayılışına etki eden faktörleri açıkla.

7. Mezopotamyada birçok medeniyetin kurulup gelişmesinde bölgenin hangi özellikleri etkili olmuştur? (4+4+4+4+4 = 20 PUAN)

- Fırat ve Dicle nehirlerinin bulunması
- Verimli tarım alanlarına sahip olması
- Elverişli iklim koşullarının hüküm sürmesi
- Bölgenin düz arazilerden oluşması,
- Önemli göç ve ticaret yolları üzerinde yer alması

*** Bu örnek yazılı sınav soruları 9 Şubat 2024 tarihinde yapılan il zümre öğretmenler kurulu toplantısında il/ilçe alan zümre öğretmenlerince kararlaştırılan senaryolardan 3. senaryo dikkate alınarak hazırlanmıştır.