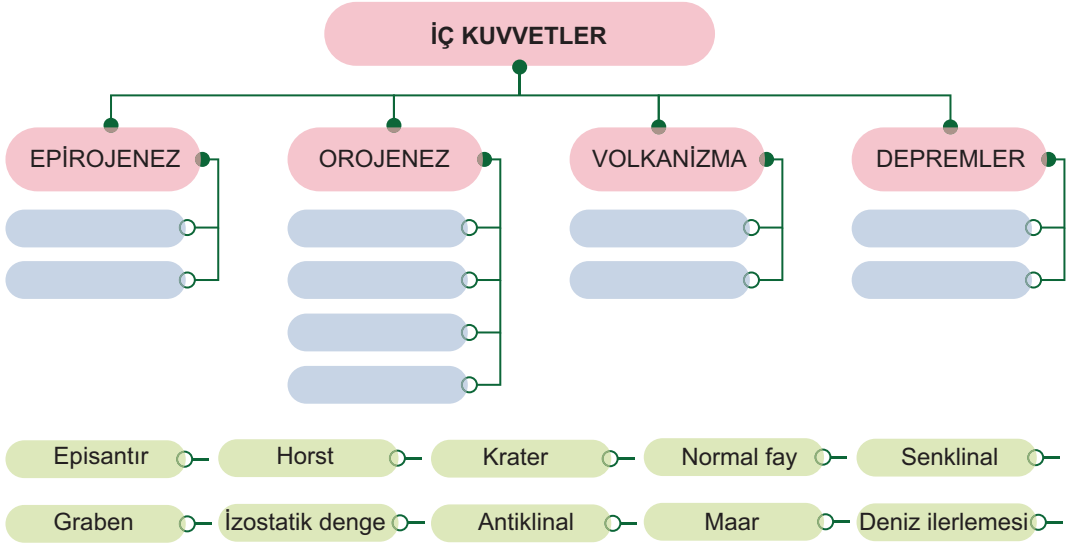


1. İç kuvvetler ile bunların sonucunda oluşan yapıları, kutucuklar içerisindeki boşluklara eşleştirerek yazınız.



2. Dağların üst kesimlerinde belirli bir yükseltiden sonra bitki örtüsünün ortadan kalkmasının nedeni nedir?

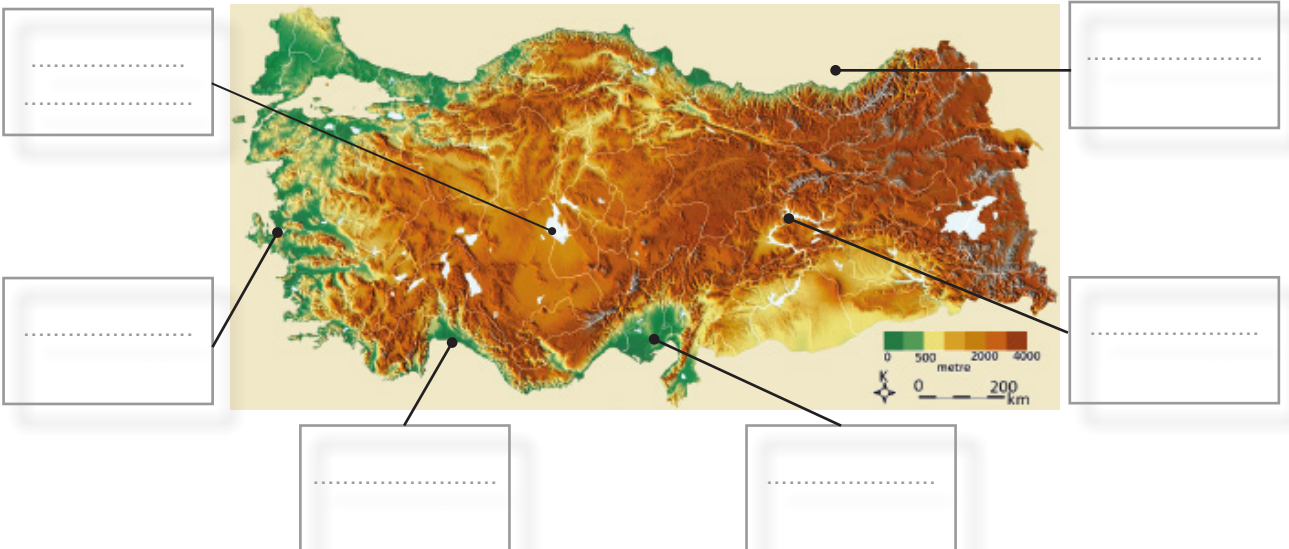
.....

.....

.....

.....

3. Harita üzerinde işaretli alanlarda su kaynaklarından daha çok hangi alanlarda yararlandığını, verilen kutucuklara yazınız.



4. Aşağıda verilen iklim tiplerinin karşlarına, toprak ve bitki örtüsü türlerini yazınız.

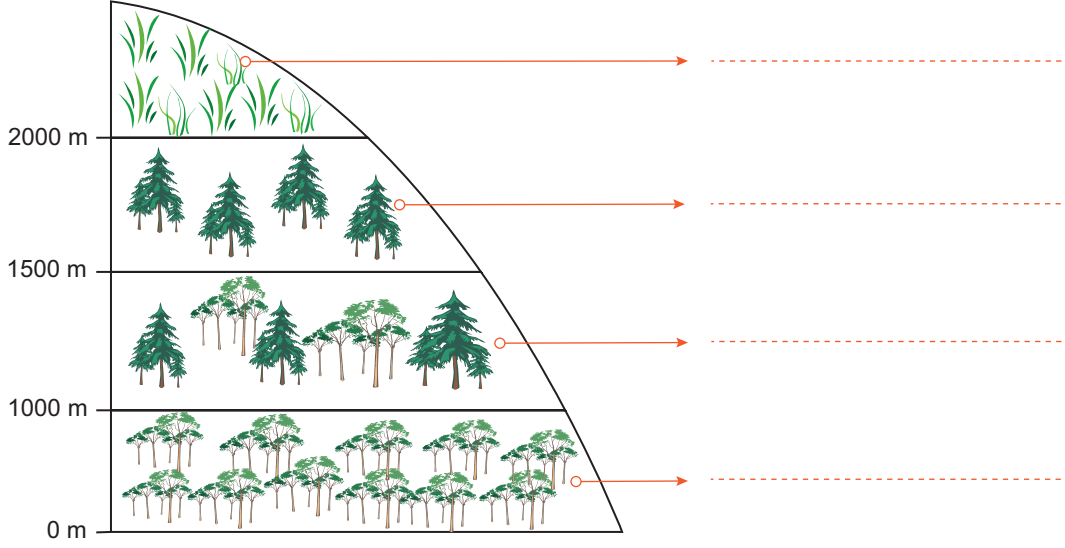
İKLİM TİPİ	TOPRAK TÜRÜ	BİTKİ ÖRTÜSÜ
Ekvatorial İklim
Akdeniz İklimi
Ilıman Okyanusal İklim
Karasal İklim
Tundra İklimi

5. Aşağıdaki cümlelerde boş bırakılan yerlere, verilen doğru sözcükleri yazınız.

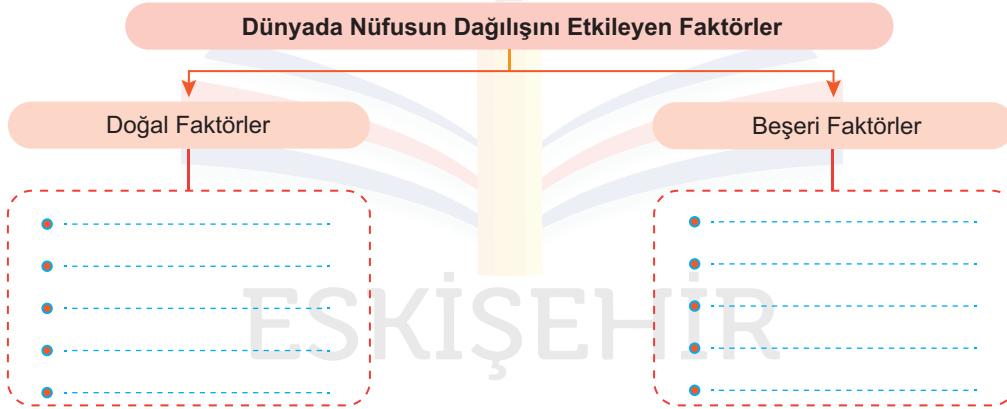
meşe	Arı Kovanı	çayır	doğal	Asya Kıtası
Akdeniz	Tundra	sanayi	Alüvyal	antropojen

- I. Bulunduğu konum nedeni ile, Türkiye’de Laterit, Çöl ve toprakları görülmez.
- II. topraklar, akarsuların taşıdığı malzemelerin delta ovalarında veya iç kesimlerdeki düzlük alanlarda birikmesiyle oluşur.
- III. Ot formasyonu savan, bozkır, tundra ve bitkilerinden oluşur.
- IV. Türkiye ormanları geniş ve iğne yapraklı ağaçlardan oluşmakla birlikte bu ağaçların yarından fazlasını..... ve kızılçamlar oluşturur.
- V. Çalı türlerinden biri olan makiler, iklim koşulları altında bodur ağaç ve çalılardan oluşan bitki topluluğudur.
- VI. Ormanların tahrip edilmesi sonucu oluşan bozkır alanlarında yer yer ormanlara da rastlanır.
- VII. Doğumların ölümlerden fazla olması sonucu meydana gelen nüfus artışına nüfus artışı denir.
- VIII. Gelişmiş ülkelerde aktif nüfusun büyük bölümü ve hizmetler sektöründe, gelişmemiş ülkelerde ise tarım sektöründe çalışmaktadır.
- IX. Dünya nüfusunun kıtalara dağılışına bakıldığında nüfusun yarından fazlasının 'nda olduğu görülür.
- X. Nüfus Piramidi: Doğum ve ölüm oranlarının düşük olduğu gelişmiş ülkelere ait nüfus piramididir.

6. Karadeniz ormanlarını oluşturan ağaç ve bitki türlerinin yükselti kuşaklarına göre dağılışını şekil yanındaki boşluklara yazınız.



7. Dünyada nüfusun dağılışını etkileyen faktörleri şema üzerindeki boşluklara yazınız.



8. Cumhuriyetin ilk yıllarında doğum oranlarını artırıcı politikaların uygulanmasının nedeni nedir?

.....

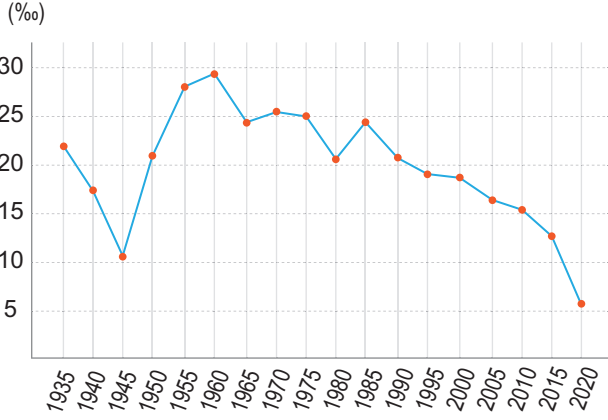
.....

.....

.....

Aşağıda verilen çoktan seçmeli soruları cevaplayınız

9. Aşağıdaki grafik Türkiye'nin 1935-2020 yılları arasındaki nüfus artış oranları göstermektedir.



Türkiye'nin nüfus artış hızı grafiği incelendiğinde, 1960 yılından itibaren dalgalanmalar olsa da nüfus artış hızının genel olarak azaldığı görülmektedir.

Bu azalış üzerinde aşağıdakilerden hangisinin etkili olduğu söylenemez?

- A) Ortalama yaşam süresinin uzaması
B) Ekonomik yönden gelişmişliğin artması
C) Sağlık imkânlarına erişim oranının azalması
D) Eğitim süresinin ve seviyesinin yükselmesi
E) Kentsel nüfus oranının giderek yükselmesi

10. Nüfus ile ilgili aşağıda verilen yargılardan hangisi yanlıştır?

- A) Yaşlı nüfus oranı yükseldikçe doğurganlık oranı azalır.
B) Nüfus artış hızı yükseldikçe ortalama yaşam süresi uzar.
C) Kadın başına düşen çocuk sayısı azaldıkça nüfus artış hızı azalır.
D) Nüfusun ikiye katlama süresi ne kadar kısa ise nüfus o kadar hızlı artar.
E) Doğurganlık oranı ne kadar yüksek ise nüfusun ikiye katlama süresi kısaldır.

11. Dünyada ılıman ve subtropikal bölgelerde süs ve peyzaj bitkisi olarak yetiştirilen çalı veya küçük ağaçtır. 2-6 metre boyuna kadar büyür. Uzun süreli donlara karşı dayanıksızdır. Susuzluğa en dayanıklı bitkilerdendir ve kışın yapraklarını dökmez.

Bazı özellikleri anlatılan bitki, aşağıdaki bitki gruplarından hangisi içerisinde bulunur?

- A) Maki
B) Çayır
C) Tundra
D) Orman
E) Bozkır

12. Akarsular tarafından derin vadilerle parçalanmış ve yüksekte kalmış dalgalı düzlük alanlara plato denir.

Türkiye'nin platoları ile ilgili olarak verilen bilgilerden hangisi yanlıştır?

- A) En geniş alanları Orta Anadolu'da kaplamaktadırlar.
B) En yüksek platolar Erzurum—Kars ve Ardahan platolarıdır.
C) Genel olarak tarım ve hayvancılık amaçlı kullanılmaktadırlar.
D) Çatalca—Kocaeli platolarında sanayi ve yerleşme yoğunudur.
E) Teke ve Taşeli platoları volkanik kökenli olarak oluşmuşlardır.