

1. Tıp alanında yaptığı çalışmalar ile insanlığa büyük bir katkı sağlayan bilim insanlarımızdan biridir Gazi Yaşargil. Her konuyu araştıran, soru soran, sebep sonuç ilişkilerini irdeleyen özelliği ile dikkat çeken Yaşargil, disiplinli çalışmasıyla önemli başarılarla imza atmıştır. Mikrocerrahi alanında yaptığı çalışmalar ile gerek ülkemizde gerekse yurt dışında pek çok ödüle layık görülmüştür.

**Metinden Gazi Yaşargil ile ilgili hangi sonuca ulaşılır?**

- A) Sadece hekimlik yapmıştır. B) Belirli konularda meraklıdır.  
C) Disiplinli çalışan bir araştırmacıdır. D) Çalışmalarını ülke içinde tutmaya özen göstermiştir.

2. Sanal dünyada "Kimlik hırsızlığı" adı verilen olayda kötü niyetli insanlar bize ait bilgilerle farklı suçlar işleyebilirler.

**Aşağıdakilerden hangisi bu durumu önlemek için yapılması gerekenlerden biri değildir?**

- A) Genel ağda kimlik bilgilerimizi paylaşmamak  
B) Sosyal medyada kişisel bilgilerimizi paylaşmak  
C) Sosyal medyada adres bilgilerimizi paylaşmamak  
D) Genel ağ ortamında, tanımadığımız insanlarla iletişime geçmemek

3. Mehmet ansiklopedi, kitap ve dergileri inceleyerek hakkında araştırma yapmak istediği bir mucit belirledi. Bu kişiyle ilgili bilgileri defterine not etmeye başladı. Kaynaklardaki bazı bilgileri hiç değiştirmeden tırnak içinde yazdı. Böylece bu ifadelerin yazara ait olduğunu göstererek aslını korudu. Bazı uzun metinleri ise özetleyerek yazdı. Ancak özetlerken yazarın anlatmak istediklerini değiştirmemeye özen gösterdi.

**Metne göre Mehmet için aşağıdakilerden hangisi söylenebilir?**

- A) Bilimsel etiğe uygun davranmıştır.  
B) Noktalama kurallarına dikkat etmiştir.  
C) Bilgileri kendi yorumunu katarak değiştirmiştir.  
D) Ansiklopedi, kitap ve dergi okumayı çok sevmektedir.

4. "Zonguldak'a bağlı Kilimli ilçesinde çiçek, parfüm ve oyuncak satarak geçimini sağlayan M.K, piyasa değeri yaklaşık iki bin lira olan bir cep telefonunun genel ağdaki bir alışveriş sitesinde yüz liraya satıldığını görüp sipariş verdi. M.K, Kilimli PTT şubesine gelen kargosunu yüz lira ödeyerek teslim aldı. Bu tür alışverişlerde bazen başka ürünlerin gönderildiğini okuyan ve aynı durumla karşılaşabileceğini düşünen M.K, kutuyu video kaydı eşliğinde açtı. Kutuyu açtığında ise telefon yerine bilgisayar kulaklığı ile karşılaştı."

**Gazete haberindeki gibi bir olumsuzluğa düşmemek için M.K;**

- I. Mağazaları kıyaslamak.  
II. En ucuz ürünü almak.  
III. Müşteri eleştirilerini okumak.

**yöntemlerinden hangilerini uygulamalıydı?**

- A) Yalnız I. B) Yalnız II. C) I ve II. D) I ve III.

5. 26 yaşındaki Türk mucit Mehmet Türker'in icat ettiği cihaz, engellilerin umudu oldu. Cihaz sayesinde engelliler ellerini kullanmadan sadece kafa hareketleriyle bir telefonu, tableti, bilgisayarı, TV'yi kullanabilecek. Türker, neden böyle bir proje yapma gereği duyduğunu şu şekilde aktardı: "Bir arkadaşımız denize atlaması sonucunda boyun felci oldu. Arkadaşımızın hayatını kolaylaştırmak için çözüm arayışına girdik. Başlangıçta ticari olarak üretmek amacımız yoktu. Fakat diğer engelliler de yararlansın diye seri üretime başladık."

**Haberde adı geçen buluş ile ilgili aşağıdaki çıkarımlardan hangisi doğrudur?**

- A) Bir ihtiyacı karşılamaya yönelik yapılmıştır.  
B) Ekonomik açıdan çok büyük getirisi olacağı düşünüldüğü için tasarlanmıştır.  
C) Engellilerin teknoloji konusundaki bilgisizliğini gidermek amaçlanmıştır.  
D) Denize kontrolsüz atlamanın hangi zararlara yol açacağı anlatılması amaçlanmıştır.
6. Asya: Biz bir ütü satın almıştık. Eve gelip kullandığımızda arızalı olduğunu gördük. Faturası ile birlikte satıcıya götürdük. Ancak satıcı ürünü değiştirmeyi kabul etmedi. Bu durumda ne yapmalıyız?

**Aşağıdakilerden hangisi sosyal bilgiler öğretmeninin Asya'yı yönlendirebileceği kurumlar arasında değildir?**

- A) Tüketici Mahkemeleri  
B) 175 Alo Tüketici hattı  
C) Anayasa Mahkemesi  
D) Tüketici Sorunları Hakem Heyetleri
7. Fransız sanatçı Jean-Marc-Coté (Jon Mark Kote) ve arkadaşları 1899 yılında yaptıkları çalışmada 100 yıl sonrasını (2000 yılı) tasvir eden aşağıdaki kartları hazırlamışlardır.



**Bilgi ve görsellerden yola çıkılarak;**

- I. Gelecek insan için bir merak konusudur.  
II. Teknolojideki gelişmenin mesleklerin değişimine nasıl yansıtacağı hayal edilmiştir.  
III. Teknoloji olmadan insanlar yaşamlarını devam ettiremezler.

**Çıkarımlarından hangileri yapılamaz?**

- A) Yalnız I.                      B) Yalnız III.                      C) I ve II.                      D) II ve III.

8.



**Görselede yansıtılan sorunlarla karşılaşmamak için bilinçli bir tüketici;**

- I. Ürün ya da hizmet satın alırken fiş ya da fatura almalı ve bu belgeleri saklamalıdır.
- II. Dayanıklı tüketim ürünleri satın alırken garanti belgelerini ve kullanma kılavuzlarını almalıdır.
- III. Aldığımız ürünlerin üzerinde TSE damgası olmasına özen göstermeliyiz.

**Davranışlarından hangilerini gerçekleştirmelidir?**

- A) Yalnız I.                      B) I ve II.                      C) II ve III.                      D) I, II ve III.

9. İnsanların yaşamlarını etkileyen toplumsal, siyasal ve ekonomik gelişmelere dair söz sahibi olmaları açısından kullanılan temel hakka katılım hakkı denir.

**Bu bilgiye göre aşağıdaki seçeneklerden hangisi katılım hakkına örnektir?**

- A) Oy kullanmak                      B) İnanç ve ibadet özgürlüğü  
C) Kişinin istediği inanca sahip olması                      D) Yerleşme ve seyahat özgürlüğü

10. Temel hak ve özgürlüklerin korunduğu ve kullanıldığı bir toplumun bireyleri huzur ve güven içinde yaşar.

**Aşağıdaki seçeneklerden hangisinin böyle bir toplumda görülmesi beklenemez?**

- A) Demokratik yaşamın daha kolay gelişmesi  
B) İnsanların gelecek korkusunun ortadan kalkması  
C) İnsanların aynı düşünceyi savunmaya zorlanması  
D) Bireylerin yetenekleri ile ülkelerine daha faydalı hâle gelmesi

11. "Yaşadığım köyde bazı komşularımın öksürüğünün hiç geçmediğini fark ettim. Bir salgından çekiniyorum!"

**Bu endişenin yaşandığı bir köyde yetkililere haber vermek kimin görevidir?**

- A) Vali                      B) Muhtar                      C) Kaymakam                      D) Belediye başkanı

12. Ülkemizde pek çok belediye sokakta yaşamak zorunda kalan vatandaşlarımıza sahip çıkmakta ve özellikle kış mevsimi boyunca onlara kalacak yer sağlamaktadır.

**Cümlede insanların hangi ihtiyacının karşılanmasından söz edilmektedir?**

- A) Ulaşım B) Adalet C) Sağlık D) Barınma

13. Turizm sayesinde insanlar hem başka ülkelerin doğal ve tarihî güzelliklerini görür hem de sunulan yemekler, yapılan aktiviteler, yerel halkla kurulan ilişkiler sayesinde misafir oldukları kültürlerin farkına varırlar. Kültürel ilişkilerin artması ülkeler arasında karşılıklı anlayışı güçlendirmekle kalmaz, aynı zamanda ortak hareket için de uygun ortamı oluşturur.

**Parçaya verilecek en uygun başlık aşağıdakilerden hangisidir?**

- A) Yemek Kültürü ve Turizme Etkileri  
B) Turizmin Uluslararası İlişkilerdeki Önemi  
C) Yerli Halkın Misafirlere Gösterdiği Saygı ve Hoşgörü  
D) Doğal ve Tarihi Güzelliklerin İnsanlığın Ortak Değerlerine Katkıları

14. Güneydoğu turizmde ön plana çıkan Mardin en önemli cazibe merkezlerinden biri olma yolunda... Mardin farklı etnik grupların tarih boyunca bir arada yaşadığı; tarihî cami, medrese, kilise ve taşın âdeta oya gibi işlendiği evleriyle ziyaretçilerine dört mevsim büyüü bir atmosfer sunuyor. Zengin kültürel yapısıyla yerli ve yabancı turistleri kendine çekiyor.

**Genel Ağ haberine göre Mardin'in;**

- I. Değişik kültürlerin uyumu  
II. Tarihi eserleri  
III. İklimi

**özelliklerinden hangileri turistlerin ilgisini çekmektedir?**

- A) I ve II. B) II ve III. C) III ve IV. D) I, II ve III.

15. Doğal güzellikler taşınamayan kültürel miras unsurları arasında yer alır.

**Verilen eserlerden hangisi bilgideki ortak miras unsurlarındandır?**

- A) Çin Seddi B) Mostar Köprüsü  
C) Hawaii Yanardağlar Millî Parkı D) Persepolis şehri

16. Ülkemizde üretilmeyen ürünleri ya da olmayan kaynakları başka ülkelerden alırız.

**Aşağıda verilen hangi ürün bu bilgiye örnek oluşturur?**

- A) Kakao B) Çay C) Buğday D) Şeker pancarı

## 17. Cümlelerdeki boşlukları kutudan seçeceğiniz uygun sözcükler ile doldurunuz.

- İl ve İlçelerde halkın oyları ile seçilen ..... başkanları, ..... yönetimlerin önemli bir parçasını oluşturur.
- İl Emniyet Müdürlüğü .....ye, İlçe Emniyet Müdürlüğü .....a bağlıdır.
- Türkiye Cumhuriyeti'nde kadınlara milletvekili seçme ve seçilme hakkı ..... yılında tanındı.

yerel - merkezi - kaymakam - belediye - vali - 1930 - 1934

## 18. İnsanlığın bilim mirasına katkı sunan isimleri, özellikleri ile eşleştiriniz.





Günümüzde tıbbın babası olarak anılan İyonyalı hekimdir.

Astronom ve matematikçidir. II. Mehmed'in davetiyle Ayasofya Medresesinde müderrislik yapmıştır.

İtalyan astronom, fizikçi, mühendis, filozof ve matematikçidir.

Harvard (Harvard) Üniversitesinin Genç Akademi üyeliğine seçilen ilk Türk'tür.

Kanser hastalığını tedavi eden radyoaktivite ışınlarını bulmuştur. Bilim dalında Nobel Ödülü'nü iki kere alan ilk bilim insanıdır.



1

Galileo Galilei

2

Hipokrat

3

Ali Kuşçu

4

Canan Dağdeviren

5

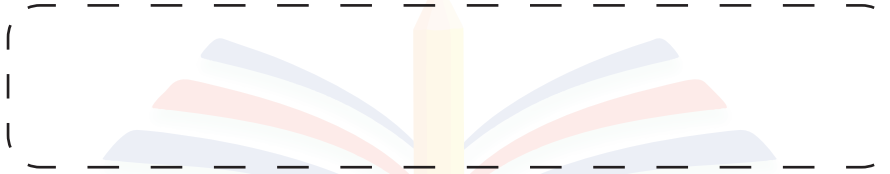
Madam Curie

19. Aşağıda verilen ifadelerin sonunda yer alan boşluğa doğru ise "D", yanlış ise "Y" harfi koyunuz.

- Yaşanılan sorunun satıcı ile çözülememesi durumunda tüketici haksız olduğunu kabul etmelidir. ....
- Ürün ya da hizmet satın alırken fiş ya da fatura almalı ve bu belgeleri saklamalıdır. ....
- Hizmet sektörünün geliştiği şehirlerimizin en önemli özelliği nüfuslarının yoğun olmasıdır. ....
- Teknolojinin hayatımıza katkıları hep olumlu yöndedir. ....
- Türkiye, üç kıtanın birbirine bağlandığı bir noktada, ticaret açısından son derece önemli bir bölgede yer almaktadır. ....

20. Devletimiz, bizim temel ihtiyaçlarımızı karşılamakla sorumludur. Bununla birlikte toplumun eğitim, çevre, çocuk ve kadın hakları gibi sosyal ihtiyaçlarını karşılamak amacıyla gönüllü kişiler tarafından oluşturulan kuruluşlar da vardır.

**Bu kuruluşlara verilen genel ad nedir? Yanıtınızı kutunun içine yazınız.**



ESKİŞEHİR