

1. Anadolu'nun en eski yerleşim yerleri ve buldukları kentler eşleştirmesi hangi seçenekte doğru verilmiştir?
- | | Diyarbakır | Burdur | Konya |
|----------------------------------|------------|------------|------------|
| A) | Hacılar | Çayönü | Çatalhöyük |
| <input checked="" type="radio"/> | Çayönü | Hacılar | Çatalhöyük |
| C) | Hacılar | Çatalhöyük | Çayönü |
| D) | Çatalhöyük | Çayönü | Hacılar |
2. Fırat ve Dicle nehirlerinin geçtiği topraklar hangi adla anılmaktadır?
- A) Kapadokya B) Anadolu C) Likya D) Mezopotamya
3. Avrupa'da sanayi şehirlerinin oluşmaya başlaması, nüfusu çok kalabalık ana kentlerin meydana gelmesi hangi olayın sonucudur?
- A) Sanayi İnkılabı B) Yazının icadı
C) Fransız İhtilali D) Tekerleğin bulunması
4. Antalya; denizi, güneşi ve tarihî güzellikleri sayesinde gelişen şehirlerimizden biridir. **Bilgide Antalya'nın gelişmiş bir kent olmasında hangi sektörün rolünden söz edilmiştir?**
- A) Tarım B) Ticaret C) Turizm D) Hayvancılık
5. **Aşağıdakilerden hangisi yerleşmeyi etkileyen olumlu ya da olumsuz beşerî faktörlerdendir?**
- A) Su kenarları B) Gür ormanların bulunduğu alanlar
C) Yükseltisi fazla olmayan düzlükler D) Yolların kavşak noktalarında kurulan yerleşmeler
6. Sıcaklığın düşük olduğu yüksek dağlar ve platolar ile yağışın az olduğu alanlar, yerleşmelerin az olduğu yerlerdir. **Aşağıdaki illerden hangisi bilgide anlatılan yerlerden biridir?**
- A) Kars B) Adana C) Muğla D) Eskişehir
7. **Bir ülkede, bir bölgede, bir evde belirli bir alanda yaşayanların oluşturduğu toplam sayıya verilen ad nedir?**
- A) Toplum B) Nüfus C) Aile D) Grup
8. **Nüfus ile bu nüfusun üzerinde yaşadığı toprakların yüz ölçümü arasındaki oran nasıl adlandırılır?**
- A) Beşerî faktör B) Demografi C) Rakım D) Nüfus yoğunluğu

9. İnsan nüfusunu yapı, gelişme ve dağılım açısından inceleyen bilime ne ad verilir?

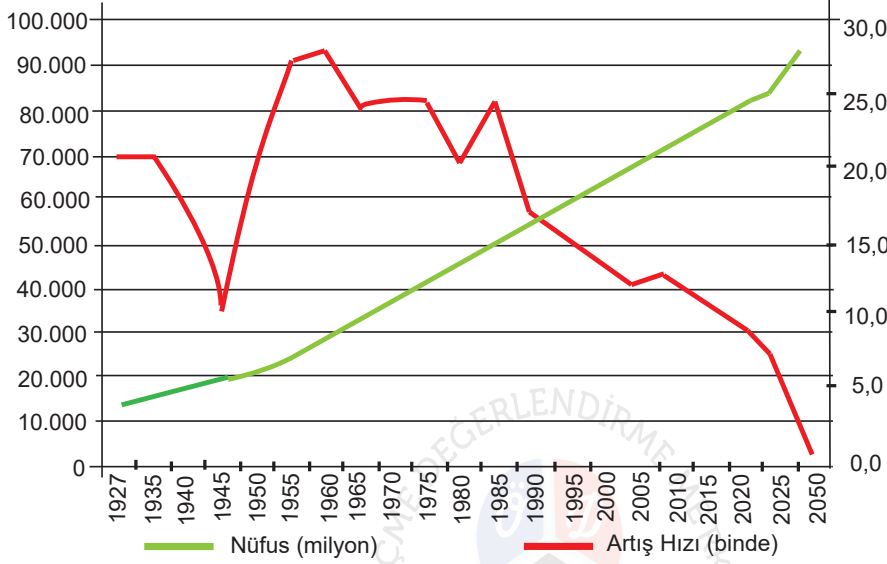
A) Coğrafya

B) Etnoğrafya

C) Sismoloji

D) Demografi

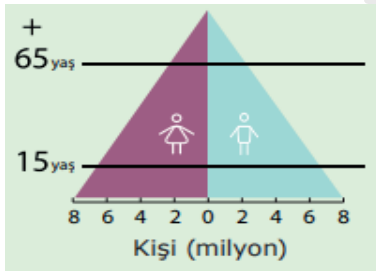
10.



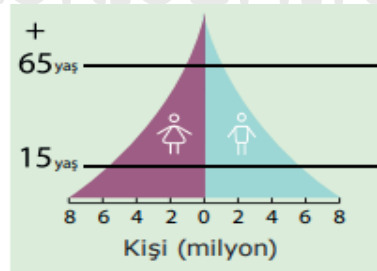
Verilen grafiğe göre aşağıdaki bilgilerden hangisi yanlıştır?

- A) Son yıllarda nüfus artış hızı artmaktadır.
 B) Toplam nüfus miktarında sürekli bir artış gözlenmektedir.
 C) Nüfus artış hızında bir azalma yaşansa da nüfusun artışı devam etmektedir.
 D) 1927 yılından bu yana Türkiye nüfusu, altı katından fazla oranda artış göstermiştir.

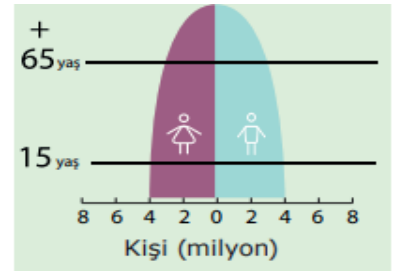
11. Nüfus piramitlerini ülkelerin gelişmişlik düzeyleri ile eşleştiriniz.



A



B



C

Gelişmekte olan ülkeler

Gelişmiş ülkeler

Az gelişmiş ülkeler

B

C

A

12. Aşağıdaki ifadeler doğru ise karşısına "D", yanlış ise "Y" harfi koyunuz.

Gelişmiş ülkelerde hizmet ve sanayi sektörlerinde çalışan insan sayısı fazladır.D.....

Gelişmiş ülkelerde tarım sektöründe çalışan insan sayısı azdır.D.....

Az gelişmiş ülkelerde tarım sektöründe çalışan insan sayısı azdır. ...Y.....

Az gelişmiş ülkelerde sanayi ve hizmet sektöründe çalışan insan sayısı azdır.D.....

13. Bilgilerdeki boşlukları kutudan seçeceğiniz uygun ifadeler ile doldurunuz.

- Eğitim görmüş ve yetenekli kişilerin çalışma ya da imkanların yetersizliği gibi nedenler yüzünden kendi ülkesinden başka bir ülkeye yerleşmesine ...beyin göçü..... denir.
- İnsanların buldukları yeri kendi iradeleri ile terk etmelerigönüllü göç..... hareketidir.
- Mevsimlik göç ...geçici göç..... olarak da adlandırılır.
- Ülke sınırları dışına doğru gerçekleşen göçleredış göç..... denir.

geçici göç - gönüllü göç - beyin göçü - dış göç

14. Nüfusun yoğun olduğu yerlerde insanlar belirli bir bölgeye yoğunlaştığında bu durum çarpık kentleşmeye ve gecekondulaşmaya sebep olabilir. Sağlıklı ve düzenli kentleşmeyi gerçekleştirmek amacıyla devlet hangi özgürlüğe kısıtlama getirebilir? Yanıtınızı sorunun altında yer alan kutuya yazınız.

yerleşme hürriyeti