

ÖĞRENCİ

ADI:
SOYADI:
SINIFI: NO:

ESKİŞEHİR İL MİLLİ EĞİTİM MÜDÜRLÜĞÜ
ÖLÇME DEĞERLENDİRME MERKEZİ
2022-2023 EĞİTİM-ÖĞRETİM YILI
COĞRAFYA DERSİ 9. SINIFLAR
2. DÖNEM 1. YAZILI ÖRNEK SORULARI

Okulunuzun Adı

.....
.....
.....

Sınav süresi **40** dakikadır. Her soru **10** puandır.

1. Yandaki harita doğa sporları yapan bir grup öğrencinin başlangıç noktasından itibaren arazideki izledikleri yolu göstermektedir.

Aşağıdaki soruları haritayı inceleyerek cevaplayınız.

a) Kamp alanının yükseltisini yaklaşık olarak yazınız.

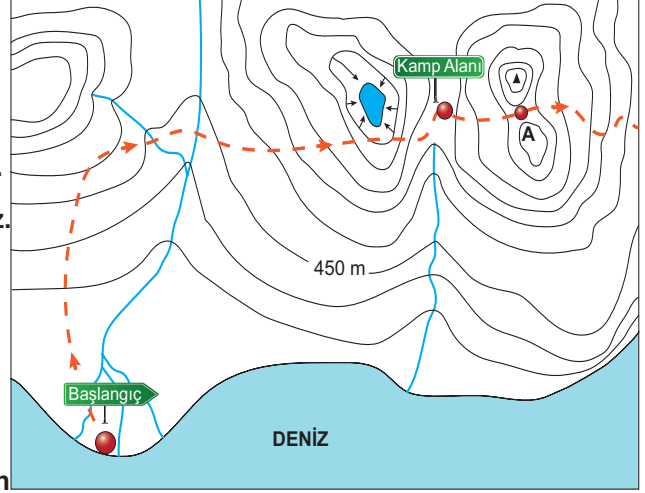
.....

b) Sporcular A noktasında iken fiziki haritada hangi renk içerisinde bulunurlar?

.....

c) Sporcular rota üzerinde hangi yeryüzü şekillerinin üzerinden geçişlerdir?

.....



2. Kutup ışıkları ya da kutup aurorası; kutup bölgelerinde gökyüzünde görülen, yeryüzünün manyetik alanı ile Güneş'ten gelen yüklü parçacıkların etkileşimi sonucu ortaya çıkan doğal ışımalarıdır.

Bu Aurora'lar atmosferin hangi katmanında oluşmaktadır?

.....

3. Sıcaklığın dağılışını etkileyen faktörlerden biri de güneş ışınlarının geliş açısının değişmesidir.

Güneş ışınlarının geliş açısı hangi faktörlere bağlı olarak değişir?

.....

.....

.....

.....

4. Yerden yukarılara çıkıldıkça basınç değerlerinin düşmesinin nedeni nedir? Kısaca açıklayınız.

.....

.....

.....

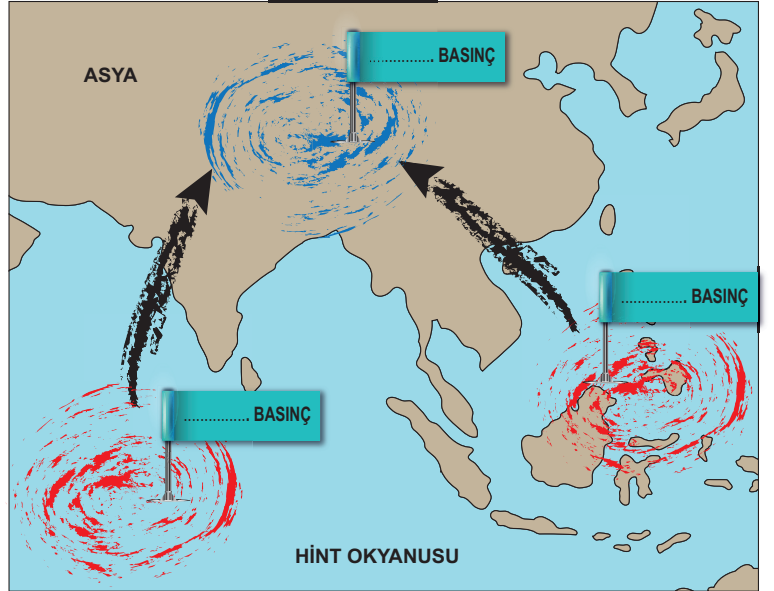
.....

5. Yanda bir rüzgar çeşidinin dünya üzerinde etkili olduğu bölgeyi gösteren harita verilmiştir.

Harita üzerindeki boş bırakılan yerlere;

- a- Rüzgârı oluşturan basınç türlerini (AB yada YB)
b- Yaşanılan mevsimi
c- Rüzgârın adını

yazınız.



..... MEVSİMİ

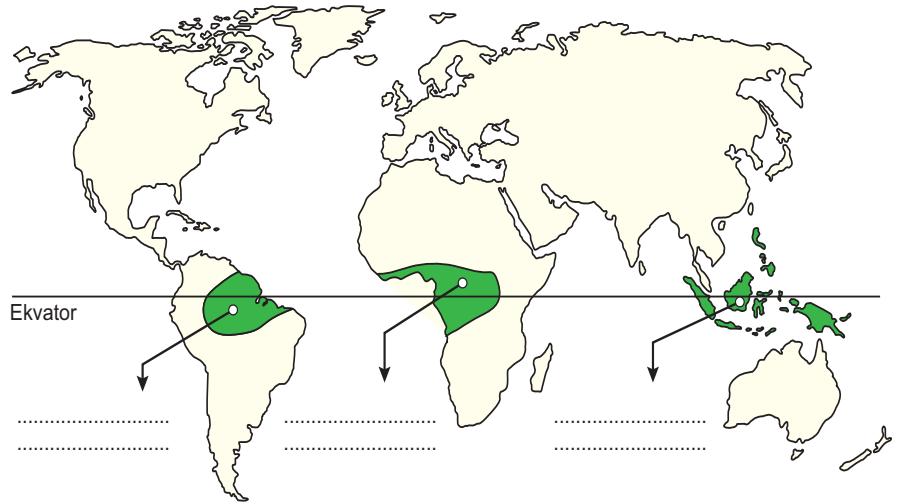
.....RÜZGARLARI

6. Ekvator ve çevresinin dünyanın en yağışlı yerlerinden biri olmasının nedeni nedir?

.....
.....
.....

7. Yandaki haritada ekvatorial iklimin dünyadaki görüldüğü alanlar boyanarak gösterilmiştir.

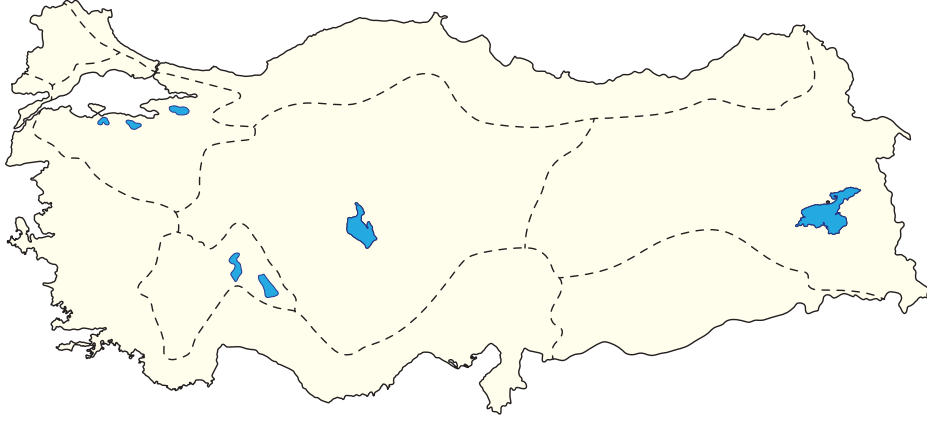
Bu alanların isimlerini harita üzerindeki noktalı yerlere yazınız.



8. Türkiye’de yaz mevsimi sıcaklık ortalamalarının en yüksek ve en düşük olduğu yerleri nedenleri ile birlikte yazınız.

.....
.....
.....

9. Dilsiz harita Türkiye'de görülen iklim tiplerinin dağılışı alanlarını göstermektedir.



Aşığıdaki soruları haritayı da kullanarak cevaplayınız.

a) Akdeniz ikliminin görüldüğü alanı harita üzerinde tarayarak gösteriniz.

.....

b) Bu iklimin yıllık sıcaklık ortalaması yaklaşık kaç derecedir?

.....

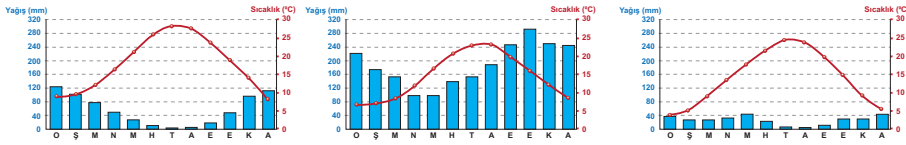
c) Bu iklimin en yağışlı mevsimi hangisidir?

.....

d) Bu iklimin doğal bitki örtüsü nedir?

.....

e) Grafiklerden hangisi bu iklime aittir, yuvarlak içerisinde alınız.



10. İnsanlar ilk dönemlerde hangi özelliklere sahip olan yerleri yerleşim alanı olarak tercih etmişlerdir?

.....
.....
.....