

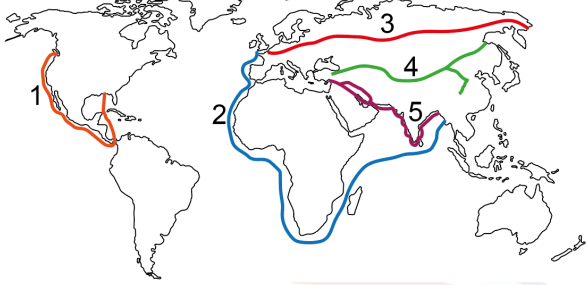
10.SINIFLAR / COĞRAFYA DERSİ  
ÜNİTE DEĞERLENDİRME SORULARI

3. ÜNİTE: KÜRESEL ORTAM  
4. ÜNİTE: ÇEVRE VE TOPLUM

1. Aşağıdakilerden hangisi yük taşımacılığında deniz yollarının tercih edilme nedenlerinden birisi değildir?

- A) Kıtalararası ticaretin yaygın olarak yapılması
- B) Bütün ülkelere denizyolları ile ulaşılabilmesi
- C) Tek seferde fazla miktarda yükün taşınabilmesi
- D) Yol bakım ve yenileme maliyetlerinin olmaması
- E) Tünel ve köprü yapım zorunluluğunun olmaması

2. Aşağıdaki haritada dünya üzerinde kullanılan bazı ticaret yolları gösterilmiştir.



İşaretli hatlardan hangisi Baharat Yolu güzergâhını göstermektedir?

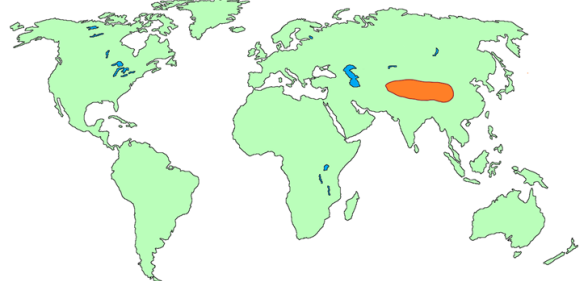
- A) 1
- B) 2
- C) 3
- D) 4
- E) 5

3. Ulaşım ağlarının sıklığı ve kalitesi ülkelerin gelişmişlik düzeyini gösterir. Gelişmiş ülkelerde ulaşım ağı sık, ulaşım sistemleri çeşitli, hızlı ve konforludur. Az gelişmiş ülkelerde ise ulaşım imkânları ve ulaşım teknolojisi yeteri kadar gelişmemiştir.

Aşağıdaki ülkelerin hangisinde ulaşım ağının daha seyrek olduğu söylenebilir?

- A) Fransa
- B) Japonya
- C) Almanya
- D) Arjantin
- E) İngiltere

4. Aşağıdaki haritada bir alan boyanarak gösterilmiştir.



İşaretli alanda, kara ve demiryollarının gelişimini engelleyen en önemli faktör aşağıdakilerden hangisidir?

- A) Sık ve gür ormanlık alanlar
- B) Yer şekillerinin engebeliliği
- C) Uzun ve karlı geçen kış koşulları
- D) Yıllık yağış miktarının düşüklüğü
- E) Yıllık sıcaklık ortalamasının yüksekliği

5. Aşağıdaki hangi iki ülke arasında karayolu ulaşımı bulunmaz?

- A) Japonya – Çin
- B) ABD – Kanada
- C) İngiltere - Fransa
- D) Brezilya - Arjantin
- E) Hindistan – Almanya

6. Meydana gelen afetler başka afetlerin ortaya çıkmasına da neden olabilirler.

Aşağıdakilerden hangisinde böyle bir durum örneği verilmemiştir?

- A) Aşırı kuraklıkların erozyonu artırması
- B) Aşırı yağışların heyelanlara neden olması
- C) Depremlerden sonra tsunaminin oluşması
- D) Şiddetli fırtınaların su baskınlarına neden olması
- E) Volkanik patlamaların yüksek sıcaklıklara neden olması

10.SINIFLAR / COĞRAFYA DERSİ  
ÜNİTE DEĞERLENDİRME SORULARI

3. ÜNİTE: KÜRESEL ORTAM

4. ÜNİTE: ÇEVRE VE TOPLUM

7. Bir afet meydana geldiğinde olduğu yakın çevreyi etkilese de sonrasında ortaya çıkardığı etkiler çok daha geniş alanlar etkileyebilmektedir.

**Aşağıdaki afet örneklerinden hangisi diğerlerine göre daha dar bir alanı etkilemiştir?**

- A) Japonya depreminden sonra oluşan tsunaminin ABD sahillerini etkilemesi  
B) 1986 yılında Çernobil nükleer kazasının etkilerinin Avrupa kıtasında görülmesi  
C) 1999 yılında Gölcük'te meydana gelen depremin İzmir ve Ankara'dan hissedilmesi  
D) Avustralya'da 2019 yılındaki orman yangınlarının dumanının tüm dünyayı dolaşması  
E) 2010 yılında İzlandada püsküren Eyjafjallajökull volkanından çıkan küllerin Türkiye'ye kadar ulaşması

8. • Prof. Dr. Ahmet Mete IŞIKARA, Kandilli Rasathanesi'nde ilk yer bilimci doktora öğrencilerini yetiştirdi. 1999 yılı sonrası, Kandilli Rasathanesi dâhilinde oluşturduğu "Afete Hazırlık Eğitim Birimi" kapsamında 7'den 70'e toplumun her kesimini bilinçlendirmek için büyük çaba sarf etti.

- 'Toprak dede' diye bilinen Hayrettin Karaca, TEMA Vakfı'nın kurucusudur. TEMA'nın "Türkiye Çöl Olmasın" sloganı toplumda büyük yankı uyardı. Karaca, Birleşmiş Milletler (BM) tarafından da 'Orman Kahramanı' unvanına da layık görülen bir isimdir.

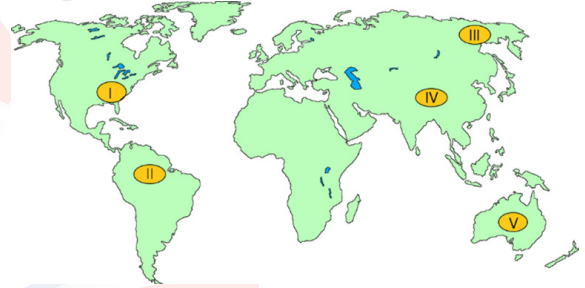
**Yukarıda isimleri verilen kişiler, Türkiye'de hangi afetlere karşı çalışma yürütmüşlerdir?**

- E) Fırtına – Çığ  
B) Sel – Heyelan  
C) Tsunami – Kasırga  
D) Erozyon – Heyelan  
E) Deprem – Erozyon

9. **Aşağıdakilerden hangisi sel ve su baskınlarını artıran bir etki değildir?**

- A) Yamaçlardaki kar erimeleri  
B) Bitki örtüsünün tahrip edilmesi  
C) Dere yataklarına çöp dökülmesi  
D) Aniden bastıran şiddetli yağışlar  
E) Akarsu yataklarının ıslah edilmesi

10. Bir olayın afet olarak nitelendirilebilmesi için insanları veya insanların yaşamını sürdürdüğü çevreyi önemli ölçüde etkileyecek kadar büyük olmalıdır. Buradan yola çıkarsak afet bir olaydan ziyade bir olayın doğurduğu sonuçtur.



**Haritadaki yerlerin hangisinde meydana gelen bir olayın afete dönüşme oranı en fazladır?**

- A) I B) II C) III D) IV E) V

11. Erozyonu artıran faktörlerden biriside, aniden bastıran sağanak yağışlardır. Bu yağışlar sonucunda toprak, yüzeysel akışla akarsulara ve oradan denizlere taşınmaktadır.

**Yukarıda anlatılan duruma bağlı erozyon, en fazla nerelerde etkili olmaktadır?**

- A) Doğu Karadeniz  
B) Erzurum—Kars platoları  
C) Konya çevresi  
D) Menteşe yöresi  
E) Hakkari yöresi