

ÖĞRENCİ

ADI:
 SOYADI:
 SINIFI: NO:

ESKİŞEHİR İL MİLLÎ EĞİTİM MÜDÜRLÜĞÜ
 ÖLÇME DEĞERLENDİRME MERKEZİ
 2022-2023 EĞİTİM-ÖĞRETİM YILI
 COĞRAFYA DERSİ 9. SINIFLAR
 2. DÖNEM 2. YAZILI ÖRNEK SORULARI

Okulunuzun Adı

.....

1. İlk yerleşmeler ortaya çıktığı dönemde; iklim şartlarının elverişli olduğu verimli tarım alanlarına sahip akarsu kenarlarında ilk yerleşim alanları ve küçük köyler kurulmuştur. Bu alanların yerleşim yeri olarak seçilmesinde; Su kaynaklarının varlığı, buraların korunaklı olması, barınak ve alet yapımı için kullanılacak malzemenin bulunması, av hayvanlarının varlığı, tohum ve meyve bolluğu, iklim şartlarının elverişli olması, verimli tarım arazisinin bulunması gibi bazı özellikler etkili olmuştur.

Zaman içerisinde bu alanların bazı özelliklerinde değişimler meydana gelmiştir.

Zaman içerisinde bu alanların hangi özelliği en az değişmiştir?

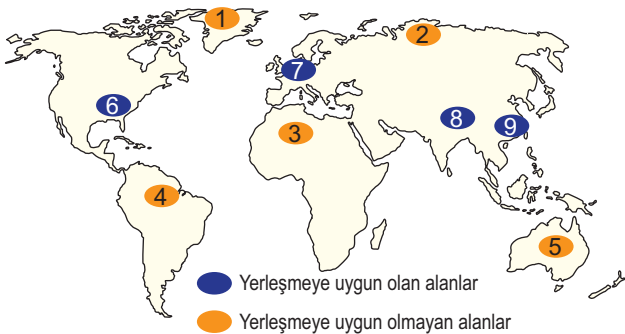
- A) Sulardaki kirlilik miktarı
 B) Dağlık alanların oranı
 C) Av hayvanlarının miktarı
 D) Orman alanlarının yüzölçümü
 E) Kullanılabilecek tarım alanı oranı

2. Toplu yerleşme dokusuna sahip olan yerleşmeler, engebenin az olduğu bölgelerde yaygındır. Bu bölgelerde meskenler birbirine bitişik ya da çok yakındır ve sokaklar dardır.

Bu tip yerleşmelerin olduğu yerlerde arazinin düz ve geniş olmasına rağmen evlerin birbirine yakın kurulmasının temel nedeni aşağıdakilerden hangisidir?

- A) Tarım arazilerinin geniş olması
 B) Orman alanlarının çok az olması
 C) Su kaynaklarının yetersiz olması
 D) Komşuluk ilişkilerinin canlı olması
 E) Ortak kullanım alanlarının bulunması

3. Aşağıdaki haritada, dünya üzerinde yerleşime uygun olan ve yerleşime uygun olmayan alanlar farklı renklerle boyanarak gösterilmiştir.



Hangi numaralı alan yanlış renk ile gösterilmiştir?

- A) 1 B) 3 C) 5 D) 8 E) 9

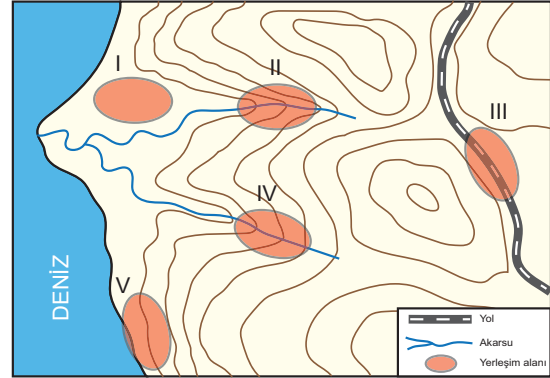
4. Aşağıdakilerden hangisi yerleşmeleri sınırlandıran faktörlerden birisi değildir?

- A) Kutup bölgeleri B) Sık ormanlık alanlar
 C) Yüksek dağlık alanlar D) Denizler ve okyanuslar
 E) Verimli tarım alanları

5. Aşağıdaki yerlerin hangisi Anadolu topraklarında kurulmuş ilk yerleşme merkezlerinden birisi değildir?

- A) Konya—Çatalhöyük
 B) Şanlıurfa—Göbeklitepe
 C) Antalya—Karain mağarası
 D) Afyonkarahisar—Kocatepe
 E) İstanbul—Yarımburgaz mağarası

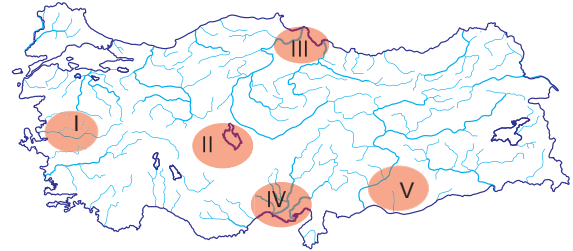
6. Aşağıdaki harita üzerine bazı yerleşim merkezlerinin kurulduğu alanlar işaretlenmiştir.



Hangi alanda çizgisel yerleşmelerin görüldüğü söylenebilir?

- A) I B) II C) III D) IV E) V

7. Tarımsal faaliyetler için su gerektiğinden, insanlar daha çok verimli toprakların olduğu, sulama yapabildikleri alanlara yerleşmişlerdir. Bu alanlarda bulunan akarsu ve göllerden sulama amaçlı yararlanılmışlardır.



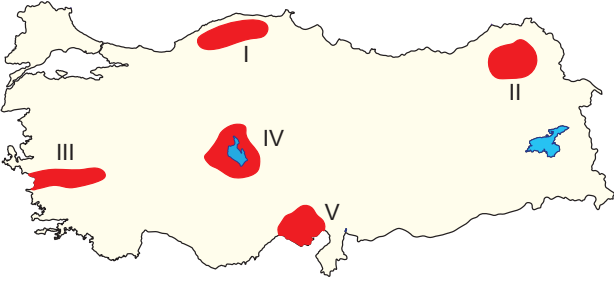
Yukarıdaki haritada işaretlenmiş yerleşim alanlarından hangisinde bu genelleme geçerli olmaz?

- A) I B) II C) III D) IV E) V

8. Türkiye'deki yerleşmeler İdari fonksiyonlarına göre sınıflandırılacak olursa aşağıdakilerden hangisi bu sınıflandırmada içerisinde yer almaz?

- A) İl yerleşmeleri B) Köy yerleşmeleri
C) İlçe yerleşmeleri D) Belde yerleşmeleri
E) Köy altı yerleşmeleri

9. Türkiye'de yerleşmelerin dağılışını etkileyen doğal faktörlerden birisi de toprak verimidir. Genel olarak toprakları verimli olan yerlerde yerleşmeler sık, verimsiz olan yerlerde ise yerleşmeler seyrekir.



Haritadaki yerlerin hangisinde toprak verimi yüksek olduğu halde yerleşmeler seyrekir?

- A) I B) II C) III D) IV E) V

10. Türkiye'de yönetim sistemi içerisinde en büyük idari birim illerdir. İlin genel yönetiminden valiler sorumludur. İllerin sınırları içerisinde birden fazla şehir yerleşmesi bulunabilir. İstisnalar olmakla birlikte bu şehirlerden en büyüğü ilin yönetildiği ve valinin bulunduğu il merkezidir. İlin ismi bu merkez şehrin ismidir. Türkiye'de sadece üç ilde merkez şehirlerinin isimleri il ismi olarak kullanılmaz. Örneğin, Sakarya ilinin merkez şehri Adapazarı'dır.

Aşağıdakilerden hangisi, merkez şehrin isminin kullanılmadığı illerden birisidir?

- A) Hatay B) Çorum C) Samsun
D) Antalya E) Eskişehir

11. Aşağıdaki bölgelerden hangisinin sınırları en net şekilde çizilebilir?

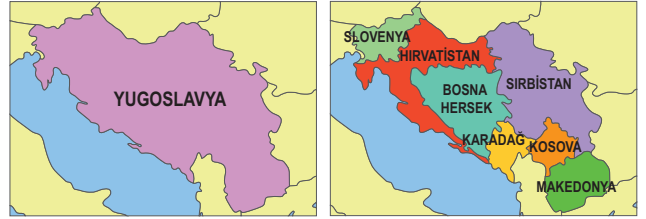
- A) Bitki bölgeleri B) İklim bölgeleri
C) Toprak bölgeleri D) Yönetim bölgeleri
E) Doğal afet bölgeleri

12. Yeryüzünde oluşturulabilecek doğal bölgelerin sınırları, insan müdahalesi sonucu zaman içerisinde değişebilmektedir.

Aşağıdaki bölgelerin hangisinin sınırlarının değişiminde insan etkisi diğerlerine göre daha yavaş şekilde olmaktadır?

- A) İklim bölgeleri B) Maden bölgeleri
C) Doğal afet bölgeleri D) Hidrografik bölgeler
E) Bitki örtüsü bölgeleri

13. Aşağıdaki görsellerde Yugoslavya Federal Cumhuriyeti'nin dağılmasıyla birlikte bağımsızlığını kazanan devletler gösterilmiştir.



Görseller incelendiğinde aşağıdakilerden hangisine ulaşılabılır?

- A) Devlet eşit alanlı yedi bölgeye ayrılmıştır.
B) Bölge sınırları bundan sonra değişmeyecektir.
C) Yeni oluşan bölge sınırlarını doğal şartlar belirlemiştir.
D) Siyasi bölge sınırlarında zaman içinde değişim olmuştur.
E) Yeni oluşan bölgeler arasındaki ekonomik sorunlar çözülmüştür.

14. Türkiye aşağıdaki bölge guruplarından hangisinde yer almaz?

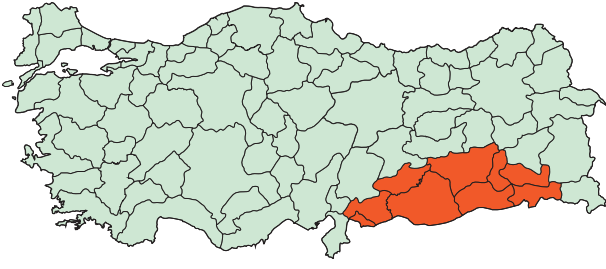
- A) Fırat Havzası Bölgesi
B) Akdeniz İklim Bölgesi
C) Avrupa Birliği Bölgesi
D) Deprem Yaşanan Alanlar Bölgesi
E) Karadeniz Ekonomik İşbirliği Bölgesi

15. Doğu Akdeniz, sahip olduğu muhtemel hidrokarbon yatakları nedeniyle bölge ülkeleri arasında paylaşım sorunlarına yol açmaktadır.

Aşağıdakilerden hangisi bölge ülkelerinden birisi değildir?

- A) Mısır B) Suriye C) Fransa
D) Lübnan E) Türkiye

16. Aşağıdaki Türkiye Fiziki Haritası üzerinde bir alan boyanarak gösterilmiştir.



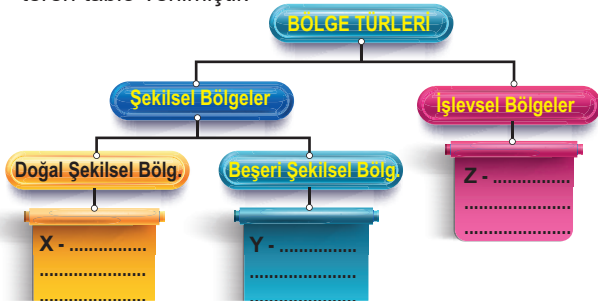
Boyalı alan aşağıdaki bölgelerden hangisine dâhil edilemez?

- A) Delta ovası bölgesi
B) Enerji üretim bölgesi
C) Petrol üretim bölgesi
D) Pamuk tarımı bölgesi
E) Sönmüş volkan bölgesi
17. Günümüzde kullanılan dünya haritası 19. yüzyılın ortalarında Avrupa merkez alınarak çizildi. Buna göre Çin ve Japonya Uzak Doğu ülkesi olarak adlandırılırken genellikle Arapların yaşadığı ve Asya ile Afrika kıtasında toprakları bulunan ülkeler de "Orta Doğu ülkesi" olarak tanımlandı.

Aşağıdakilerden hangisi bu ülkeler arasında yer almaz?

- A) Mısır B) İsrail C) Kuveyt
D) Venezuela E) Suudi Arabistan

18. Aşağıda çeşitli ölçütlere göre belirlenmiş bölge türlerini gösteren tablo verilmiştir.



Tablodaki X, Y ve Z kısımlarına sırasıyla hangi bölge örneklerini yazmak doğru olur?

- A) Sanayi Bölgeleri - İklim Bölgeleri - İstatistik Bölgeleri
B) Hizmet Bölgeleri - Bitki Bölgeleri - Yerleşme Bölgeleri
C) Toprak Bölgeleri - Nüfus Bölgeleri - Yönetim Bölgeleri
D) Doğal Afet Bölgeleri - Kültür Bölgeleri - Hizmet Bölgeleri
E) Yönetim Bölgeleri - Hidrografik Bölgeleri - İklim Bölgeleri

19. Çeşitli ölçütlere göre birbirinden ayrılmış bölgeler vardır. Bu bölgelerden bir kısmı birbirine sınır komşusu durumundayken bazıları ise dünyanın farklı bölgelerinde birbirinden uzakta bulunabilir.

Aşağıdaki bölgelerden hangileri birbirinin sınır komşusu olamaz?

- A) Dağlık Bölge—Platoluk Bölge
B) Tarım Bölgesi—Sanayi Bölgesi
C) Gelişmiş Bölge—Geri Kalmış Bölge
D) Sık nüfuslu Bölge—Seyrek Nüfuslu Bölge
E) Akdeniz İklim Bölgesi—Tundra İklim Bölgesi

20. Aşağıda verilen siyasi bölge sınırlarından hangisinin kapsamı en geniştir?

- A) Avrupa Birliği
B) Birleşmiş Milletler
C) Rusya - Belarus Birliği
D) Avrasya Ekonomik Topluluğu
E) Bağımsız Devletler Topluluğu