

**ÖĞRENCİ**

ADI: .....  
SOYADI: .....  
SINIFI: .....NO: .....

**ESKİŞEHİR İL MİLLÎ EĞİTİM MÜDÜRLÜĞÜ**  
**ÖLÇME DEĞERLENDİRME MERKEZİ**  
**2023-2024 EĞİTİM-ÖĞRETİM YILI**  
**COĞRAFYA DERSİ 10. SINIFLAR**  
**1. DÖNEM 1. YAZILI ÖRNEK SORULARI**

Okulunuzun Adı

.....  
.....  
.....

Sınav süresi **40** dakikadır. Her soru **10** puandır.

10.1.1. Dünya'nın tektonik oluşumunu açıkla.

1. Alfred Wegener'in, Kıtaların Kayma Teorisini desteklemek için ortaya koyduğu kanıtlardan birini yazınız. (10 PUAN)

10.1.2. Jeolojik zamanların özelliklerini tektonik olaylarla ilişkilendirerek açıkla.

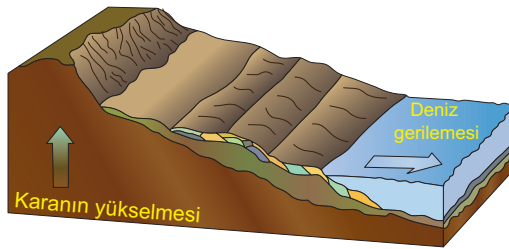
2. Birinci, ikinci ve üçüncü zamanda meydana gelen önemli olaylardan birer tane yazınız. (4+3+3 =10 PUAN)

10.1.3. İç kuvvetleri; yer şekillerinin oluşum sürecine etkileri açısından açıkla.

3. Enerjisini yerkürenin içinden alan ve yer şekillerinin oluşumunu sağlayan kuvvetleri yazınız. (3+2+3+2 =10 PUAN)

10.1.3. İç kuvvetleri; yer şekillerinin oluşum sürecine etkileri açısından açıkla.

4.



Görseldeki olayın yaşanmasına neden olan olaylara iki örnek yazınız. (5+5 =10 PUAN)

10.1.3. İç kuvvetleri; yer şekillerinin oluşum sürecine etkileri açısından açıkla.

5. Yeryüzünde volkanik alanların dağılışı ile başka hangi olayların görüldüğü alanlar paralellik göstermektedir?

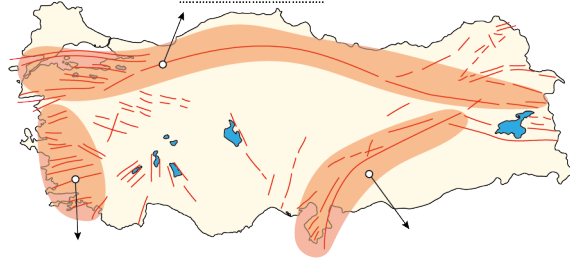
10.1.4. Kayaçların özellikleri ile yeryüzü şekillerinin oluşum süreçlerini ilişkilendirir.

6. Aktif yanardağların faaliyet gösterdiği yerlerde hangi kayalara rastlamak mümkündür? Üç örnek yazınız. (4+3+3 =10 PUAN)

10.1.5. Türkiye'deki yer şekillerinin oluşum sürecine iç kuvvetlerin etkisini açıkla.

7. Türkiye'de bulunan üç ana fay sisteminin isimlerini harita üzerindeki yerlere yazınız. (4+3+3 =10 PUAN)

(4 puan)



(3 puan)

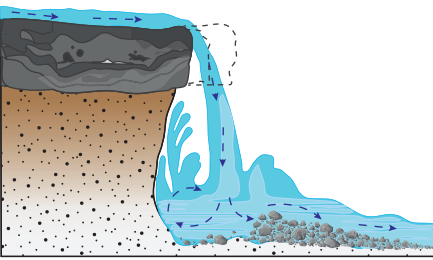
(3 puan)

10.1.5. Türkiye'deki yer şekillerinin oluşum sürecine iç kuvvetlerin etkisini açıkla.

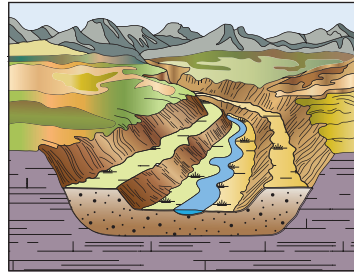
8. Türkiye'deki dağların genellikle doğu-batı doğrultusunda uzanmasının nedeni nedir? Kısaca açıklayınız. (10 PUAN)

10.1.6. Dış kuvvetleri yer şekillerinin oluşum sürecine etkileri açısından açıkla.

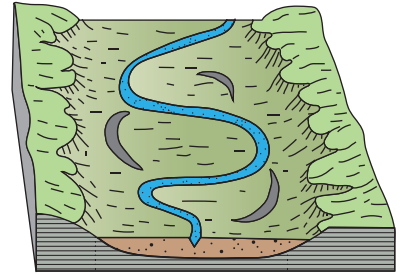
9. Aşağıda verilen akarsular tarafından oluşturulmuş bazı yer şekillerinin görselleri verilmiştir. Bu yer şekillerinin isimlerini görsellerin alt tarafına yazınız. (4+3+3 =10 PUAN)



(4 puan)



(3 puan)



(3 puan)

10.1.6. Dış kuvvetleri yer şekillerinin oluşum sürecine etkileri açısından açıkla.

10. Fiyortlu kıyı tipinin oluşumunu kısaca anlatınız. (10 PUAN)