

ÖĞRENCİ

ADI :
 SOYADI :
 SINIFI :
 NO :

ESKİŞEHİR İL MİLLÎ EĞİTİM MÜDÜRLÜĞÜ
 ÖLÇME DEĞERLENDİRME MERKEZİ
 2023-2024 EĞİTİM-ÖĞRETİM YILI
 COĞRAFYA DERSİ 10. SINIFLAR
 1. DÖNEM 2. ORTAK SINAV **CEVAP ANAHTARI**

Okulunuzun Adı

.....

1. Aşağıdakilerden hangisi yer kabuğunu oluşturan levhaların birbirine yaklaştığı bölgelerde görülen bir özellik **değildir**?

- A) **Şiddetli fırtınalar** B) Volkanik patlamalar
 C) Kıvrım dağları D) Sıcak su kaynakları
 E) Yer sarsıntıları

2. Jeolojik dönemler içerisinde oluşan aşağıdaki olaylardan hangisi yalnızca Türkiye topraklarında meydana gelmiştir?

- A) İnsanların ortaya çıkması
 B) Taş kömürü yataklarının oluşumu
 C) Alp kıvrımlarının meydana gelmesi
 D) Buzul devirlerinin başlaması ve bitmesi
 E) **İstanbul ve Çanakkale Boğazlarının oluşması**

3. Mesozoyik ve Tersiyer'de başlayıp bugün de oluşumu devam eden Alp Kıvrımları, en son oluşan orojenez hareketidir.

Aşağıdaki dağların hangisi bu orojenez ile oluşmamıştır?

- A) **Ural dağları** B) Himalaya dağları
 C) And dağları D) Kayalık dağları
 E) Alp dağları

4. Yeryüzünde volkanik patlamaların sıkça görüldüğü üç ana kuşak bulunmaktadır. Bunlardan birincisi, Pasifik Volkan Kuşağı, ikinci kuşak Akdeniz-Himalaya Volkan Kuşağı ve üçüncü kuşak ise Atlantik Volkan Kuşağı'dır.



Yukarıdaki haritada aktif volkanların bulunduğu bazı yerler işaretlenmiştir.

Bu volkanlardan hangisi farklı bir kuşak üzerinde bulunmaktadır?

- A) Redoubt B) Calbuco C) Krakatao
 D) **Etna** E) Fuji

5. Mermer, kireç taşının yer kabuğunda ısı ve basınca maruz kalmasıyla oluşur. Bu kuvvetler kireç taşının dokusunda bir takım değişimlere neden olur.

Aşağıdaki kayaların hangisi benzer biçimde oluşmuştur?

- A) Gips B) **Gnays** C) Bazalt
 D) Kömür E) Andezit

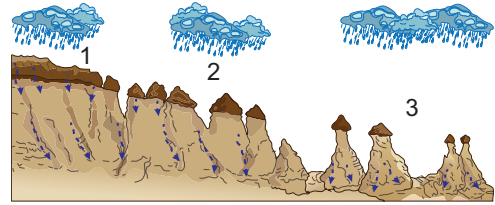
6. Türkiye'de;

- Kıyı taraçalarının görülmesi
- Akarsularının dar ve derin vadilerde akması
- İç kesimlerde yüksek düzlüklerin bulunması

gibi özelliklerin bulunması, aşağıdakilerden hangisinin göstergesidir?

- A) Orta kuşakta yer aldığı için
 B) İklim koşullarının değiştiğinin
 C) **Kıta yükselmesinin yaşandığının**
 D) Volkanik faaliyetlerin etkili olduğunun
 E) Etrafının denizlerle çevrili olduğunun

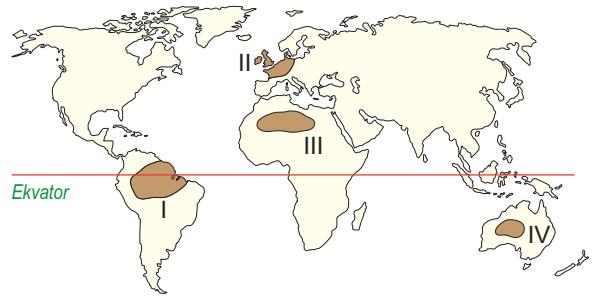
7.



Yukarıdaki görselde hangi şeklin oluşum aşamaları gösterilmiştir?

- A) Vadi B) Obruk C) Dev kazanı
 D) **Peribacası** E) Şeytan masası

8. Aşağıdaki haritada bazı alanlar boyanarak gösterilmiştir.



Bu alanların hangisinde mantarkaya, tafoni ve barkan gibi yeryüzü şekillerinin görülme olasılığı daha yüksektir?

- A) I ve II B) I ve III C) II ve III
 D) II ve IV E) **III ve IV**

9. Türkiye'de görülen kütle hareketleri ile ilgili

- I. Kış mevsiminde görülme sıklığı artar.
- II. Oluşumlarında insan faaliyetlerinin etkisi bulunmaz.
- III. Karadeniz'in kıyı kuşağında sıklıkla yaşanır.
- IV. Bu hareketler sonucu heyelan set gölleri oluşabilir.

ifadelerinden hangisi doğrudur?

- A) I ve II B) I ve III C) II ve III
 D) II ve IV E) **III ve IV**

10. Aşağıdaki hangi yeryüzü şeklinin varlığı Türkiye’de gel-git olayının etkili olmadığını gösterir?

- A) Delta B) Peribacası C) Mantarkaya
D) Polye ovası E) Falez

11. Türkiye’deki ovaların bir kısmı yer kabuğu hareketleri sonucu kırılıp çöken alanlarda bulunan tektonik ovalardır.



Haritada gösterilen ovalardan hangisi bu ovalardan biri değildir?

- A) I B) II C) III D) IV E) V

12. Aşağıdakilerden hangisi Türkiye’de bulunan platolardan biri değildir?

- A) Teke B) Taşeli C) Bafra
D) Erzurum-Kars E) Çatalca-Kocaeli

13. Levha sınırları üzerinde bulunan ülkelerde hangi göl çeşitlerinin yaygın olarak bulunması beklenir?

- A) Karstik - Yapay B) Moren set - Kıyı set
C) Karstik - Alüvyal set D) Tektonik - Volkanik
E) Heyelan set - Buzul

14. Aşağıdakilerden hangisi akarsu rejimini etkileyen bir durum değildir?

- A) Havzaya düşen yağışın biçimi
B) Akarsuyun yatak eğiminin değişimi
C) Akarsular üzerine baraj yapılması
D) Yüksek kesimlerdeki kar erimeleri
E) İnsanların sulama amaçlı su kullanımı

15. Suları yüksek sıcaklıkta olan bu kaynaklara kaplıca, ılık olanlarına da ılıca denir. Türkiye’nin çoğu bölgesinde kaplıcalara rastlamak mümkündür. Suları mineral madde bakımından zengin olduğundan şifalıdır ve birçok hastalığın tedavisinde bu kaynak sularından faydalanılmaktadır.

Yukarıda hangi kaynak çeşidinin özellikleri anlatılmıştır?

- A) Yamaç B) Fay C) Artezyen
D) Karstik E) Gayzer

16. Kış sıcaklıklarının çok düşük olduğu yerlerde yağışlar kar şeklinde düşer. Karlar, kışın hemen erimeyi için akarsu bu dönemde beslenemez. Dolayısıyla akım düşmesi görülür.

Aşağıdaki akarsulardan hangisinin akımı bu duruma örnek olarak gösterilemez?

- A) Aras B) Dicle C) Çoruh
D) Kızılırmak E) Manavgat

17. Türkiye’nin genelinde yaz mevsimi sıcak ve kurak geçmektedir. Akarsularımızın su miktarları da bu mevsimde azalmaktadır. Bu nedenle tarımda sulama problemi ortaya çıkmaktadır.

Yaz mevsimindeki sulama sorununun çözülmesi için aşağıdakilerden hangisi yapılmalıdır?

- A) Ekilebilecek alanlar azaltılmalıdır.
B) Akarsuların yatağı değiştirilmelidir.
C) Akarsular üzerine baraj kurulmalıdır.
D) Akarsular kanallarla birleştirilmelidir.
E) Tarım alanları mera haline getirilmelidir.

18. Koyu renkli ve sert bir magmatik kayaç olan bazalt üzerinde koyu renkli ve besin maddesi yönünden zengin topraklar oluşurken kalker üzerinde ise kireç yönünden zengin topraklar oluşur.

Buna göre verilen metinde toprak oluşumu üzerindeki hangi faktörün etkisinden söz edilmiştir?

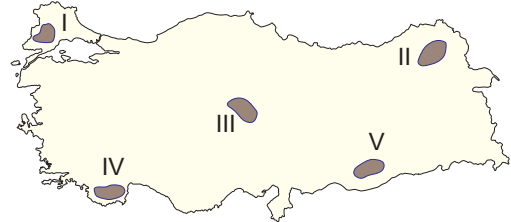
- A) İklim B) Bitki Örtüsü C) Yer Şekilleri
D) Ana Materyal E) Zaman

19. Nem azlığından dolayı kimyasal çözülme yetersizdir, toprak oluşumu yeterince gerçekleşemez. Bu nedenle A horizonu yok denecek kadar incedir. Yağış azlığı ve şiddetli buharlaşma nedeniyle toprak yüzeyinde kireç ve tuz birikerek sert bir tabaka meydana getirir ve toprakta tarım yapılamaz.

Bu toprak tipi aşağıdakilerden hangisidir?

- A) Çöl B) Podzol C) Laterit
D) Tundra E) Çernezyom

20. Başta bitkiler olmak üzere canlı atıklarının toprağa karışması ve toprakta ayrışması sonucu humus adı verilen bir örtü oluşur. Humus bakımından zengin topraklar, tarım açısından oldukça elverişlidir. Ayrıca topraktaki humus miktarı arttıkça toprağın rengi de koyulaşır.



Bitki örtüsünün dağılışı da dikkate alınırsa haritada işaretli alanların hangisindeki toprakların humus miktarı daha fazladır?

- A) I B) II C) III D) IV E) V