

ÖĞRENCİ

ADI:
SOYADI:
SINIFI:NO:

ESKİŞEHİR İL MİLLİ EĞİTİM MÜDÜRLÜĞÜ
ÖLÇME DEĞERLENDİRME MERKEZİ
2023-2024 EĞİTİM-ÖĞRETİM YILI
SOSYAL BİLGİLER DERSİ 6. SINIFLAR
1. DÖNEM 2. YAZILI CEVAP ANAHTARI

Okulunuzun Adı

.....
.....

SB.6.1.5. Bir soruna getirilen çözümlerin hak, sorumluluk ve özgürlükler temelinde olması gerektiğini savunur.

1. **Ayşe:** Çöpü yere atmamalıyım, apartmanımızın çevresi kirleniyor.

Mehmet: Bu apartmanda yaşadığıma göre apartmanımızın bahçesinde de özgürce hareket edebilirim. Üstelik bahçeye çöp tenekesi de konulmamış.

Mehmet'in verdiği yanıtları özgürlükler ve sorumluluklar çerçevesinde değerlendiriniz.

Mehmet'in barınma hakkı vardır ancak toplum içinde yaşadığı için çevreyi temiz tutmalıdır.

SB.6.2.1. Orta Asya'da kurulan ilk Türk devletlerinin coğrafi, siyasi, ekonomik ve kültürel özelliklerine ilişkin çıkarımlarda bulunur.

2. "Yeni gün" anlamına gelir. Türklerin Ergenekon'dan çıkışını ve aynı zamanda baharın gelişini kutladığımız bir bayramdır. Anadolu'da ve Türk kültürünün yayıldığı bölgelerde son derece köklü ve zengin bir geçmişi vardır. On iki Hayvanlı Türk takviminde de yer almıştır.

Metinde özellikleri verilen bayramın adını yazınız.

Nevruz

SB.6.2.2. İslamiyet'in ortaya çıkışını ve beraberinde getirdiği değişimleri yorumlar.

3. İslamiyet, Avrupa kıtasında belirli bir coğrafyaya da yayılmıştır. Aşağıdaki haritada yeşil renk ile gösterilen alanda İslam mimarisini yansıtan yapılar hâlâ tüm görkemiyle ayakta durmaktadır.

Bu coğrafyada kurulan İslam Devleti'nin adını yazınız.



Endülüs Emevi Devleti

SB.6.2.3. Türklerin İslamiyet'i kabulleri ile birlikte siyasi, sosyal ve kültürel alanlarda meydana gelen değişimleri fark eder.

4. Türklerin İslamiyet'i kabul etmesi ile birlikte yeni bir Türk - İslam mimarisi doğmuştur. Bu mimari türünün ilk hastanelerini, ticaretin canlanması ve güvenliğinin sağlanması için ilk kervansaraylarını Karahanlılar yapmıştır.

Metinde anlatılan mimari eserlerin adlarını yazınız.

Hastane: Bimarhane (5 puan)

Kervansaray: Ribat (5 puan)

SB.6.2.4. Türklerin Anadolu'yu yurt edinme sürecini XI ve XIII. yüzyıllar kapsamında analiz eder.

5. a) Büyük Selçuklu Devleti Gaznelilerle yaptığı hangi savaşı kazandıktan sonra kuruluş sürecine girmiştir?

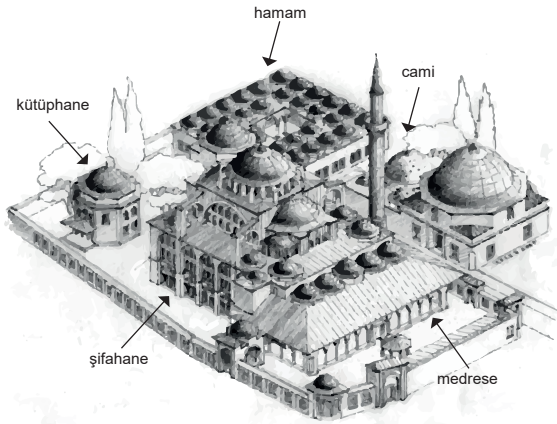
Dandanakan Savaşı. (5 puan)

b) Anadolu'nun Türk yurdu olma süreci, Büyük Selçuklu Devleti'nin Bizans İmparatorluğu ile yaptığı hangi savaştan sonra başlamıştır?

Malazgirt Savaşı. (5 puan)

SB.6.2.4. Türklerin Anadolu'yu yurt edinme sürecini XI ve XIII. yüzyıllar kapsamında analiz eder.

6.



Yan tarafta ki çizim Anadolu'nun pek çok yerinde bulunan bir mimari yapıya örnektir. Türk-İslam mimarisine ait bu çizimin adını yazınız.

Külliye

SB.6.2.5. Tarihî ticaret yollarının toplumlar arası siyasi, kültürel ve ekonomik ilişkilerdeki rolünü açıklar.

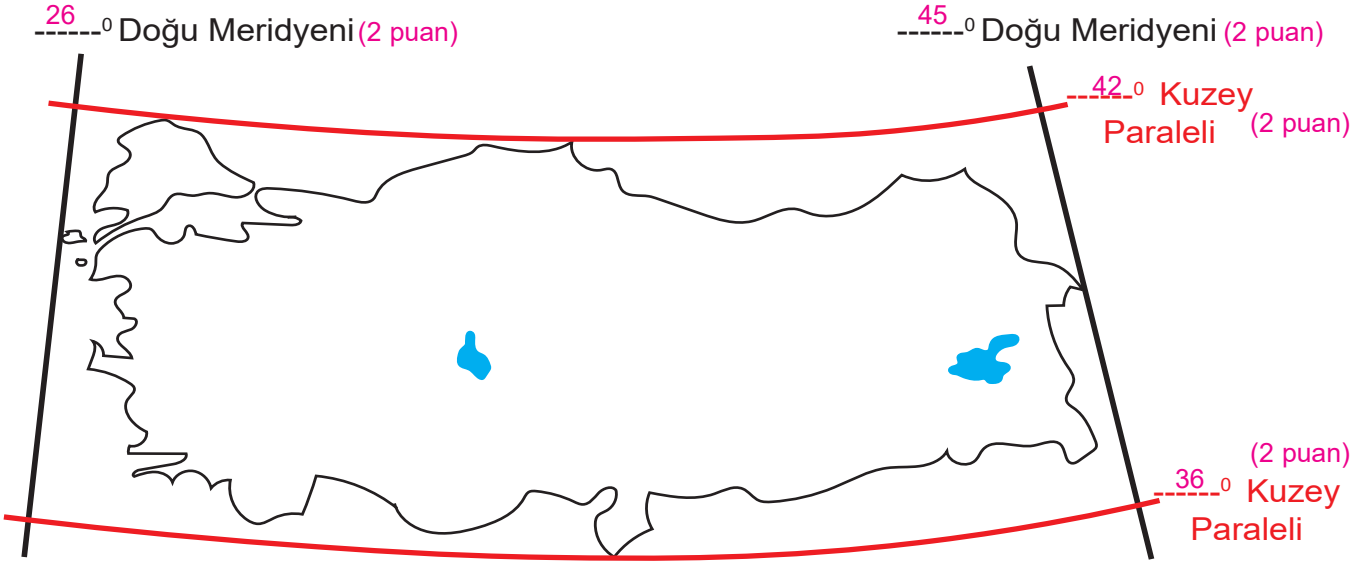
7. Çinliler, Türklerin elindeki İpek Yolu hâkimiyetini ele geçirmek için uzun yıllar mücadele etmişlerdir. Türk Devletleri de İpek Yolu'nun denetimini kaybetmemek için Çin'le mücadelenin yanı sıra bazen Sasaniler ile bazen de Bizans ile iş birliği yapmak durumunda kalmışlardır. Çıkar çatışmaları ittifakların bozulmasına hatta savaflara neden olmuştur.

Verilen bilgide, İpek Yolu'nun hangi alandaki belirleyici etkisinden söz edilmektedir?

Siyasi

SB.6.3.1. Konum ile ilgili kavramları kullanarak kıtaların, okyanusların ve ülkemizin coğrafi konumunu tanımlar.

8. a) Aşağıda verilen haritada, belirtilen yerlere Türkiye'nin mutlak konumunu yazınız.

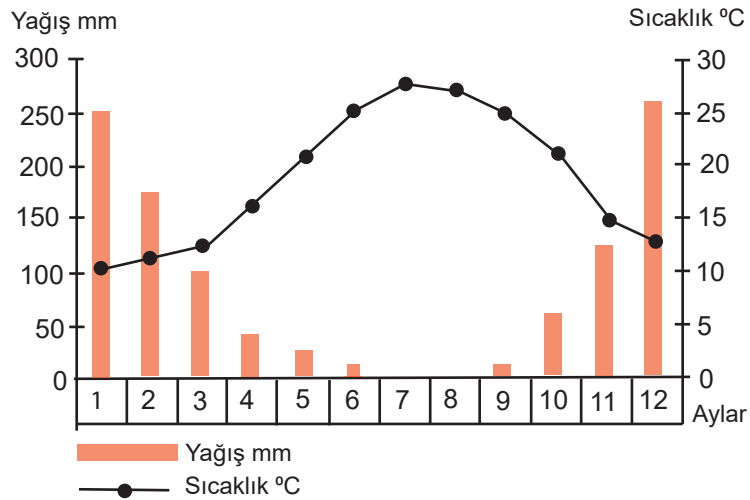


b) Türkiye hangi yarım kürededir?

Kuzey Yarım Küre (2 puan)

SB.6.3.2. Türkiye'nin temel fiziki coğrafya özelliklerinden yer şekillerini, iklim özelliklerini ve bitki örtüsünü ilgili haritalar üzerinde inceler.

9. Verilen soruları grafiğe göre yanıtlayınız.



a) Bu iklimin yaşandığı yerde görülen bitki örtüsünü yazınız.

Maki (5 puan)

b) Ülkemizde bu iklimin görüldüğü bir kent yazınız.

Akdeniz ikliminin görüldüğü kentlerden birini yazan öğrencilerin yanıtı doğru kabul edilecektir. (5 puan)

SB.6.3.2. Türkiye'nin temel fiziki coğrafya özelliklerinden yer şekillerini, iklim özelliklerini ve bitki örtüsünü ilgili haritalar üzerinde inceler.

10. Deniz kıyısına yakın olan kıyı ovaları, akarsuların denize döküldükleri yerlerde bulunur. Bu ovalar akarsuların taşıyıp biriktirdikleri alüvyonlardan oluşmuştur.

Bu bilgiye göre bir fiziki haritada kıyı ovaları hangi renkle gösterilir?

yeşil